

中学生の優太さんは、我が国で選挙権年齢が引き下げられたことを知り、選挙や政治について関心をもった。次は、社会科の調べ学習について、優太さんが同じ班の直子さん、大地さんに行った会話の一部である。①～④に答えなさい。

優太：法律が改正されて、私たちも高校生の時に選挙で投票することがあるかもしれないね。そこで、  
 (a) 選挙と政治について調べることを提案するよ。  
 直子：いい提案だわ。賛成よ。選挙権年齢が引き下げられたのは70年ぶりらしいし、(b) 歴史的な視点  
 から調べる必要があると思うわ。  
 大地：そうだね。これを機会に、(c) 国民の政治参加について調べたり、選挙で投票する意義についても  
 考えてみたいいな。  
 優太：それでは、「責任ある一票のために選挙と政治について考える」をテーマに調べ学習を進めよう。  
 直子、大地：賛成。

① 優太さんは、下線部(a)に関連して、国会議員の選挙や国会の役割について調べた。(1)、(2)に答えなさい。

(1) 優太さんは右の表を作成し、次のように説明した。□(A)には当てはまることばを漢字二字で、□(B)には当てはまることばを漢字四字で書きなさい。

衆議院	参議院
2000年	2001年
2003年	2004年
2005年	2007年
2009年	2010年
2012年	2013年
2014年	

右の表からは、参議院の選挙が3年ごとに行われているのに対して、衆議院の選挙は不規則に行われていることがわかります。これは、衆議院には参議院にない□(A)制度があることが大きく影響しています。参議院議員の選挙は、原則として都道府県を単位とした選挙区制と、全国を一つの単位とした□(B)制に分けて行われます。

(2) 国会のしくみやはたらきについてまとめた文として適当なのは、ア～エのうちではどれですか。当てはまるものをすべて答えなさい。

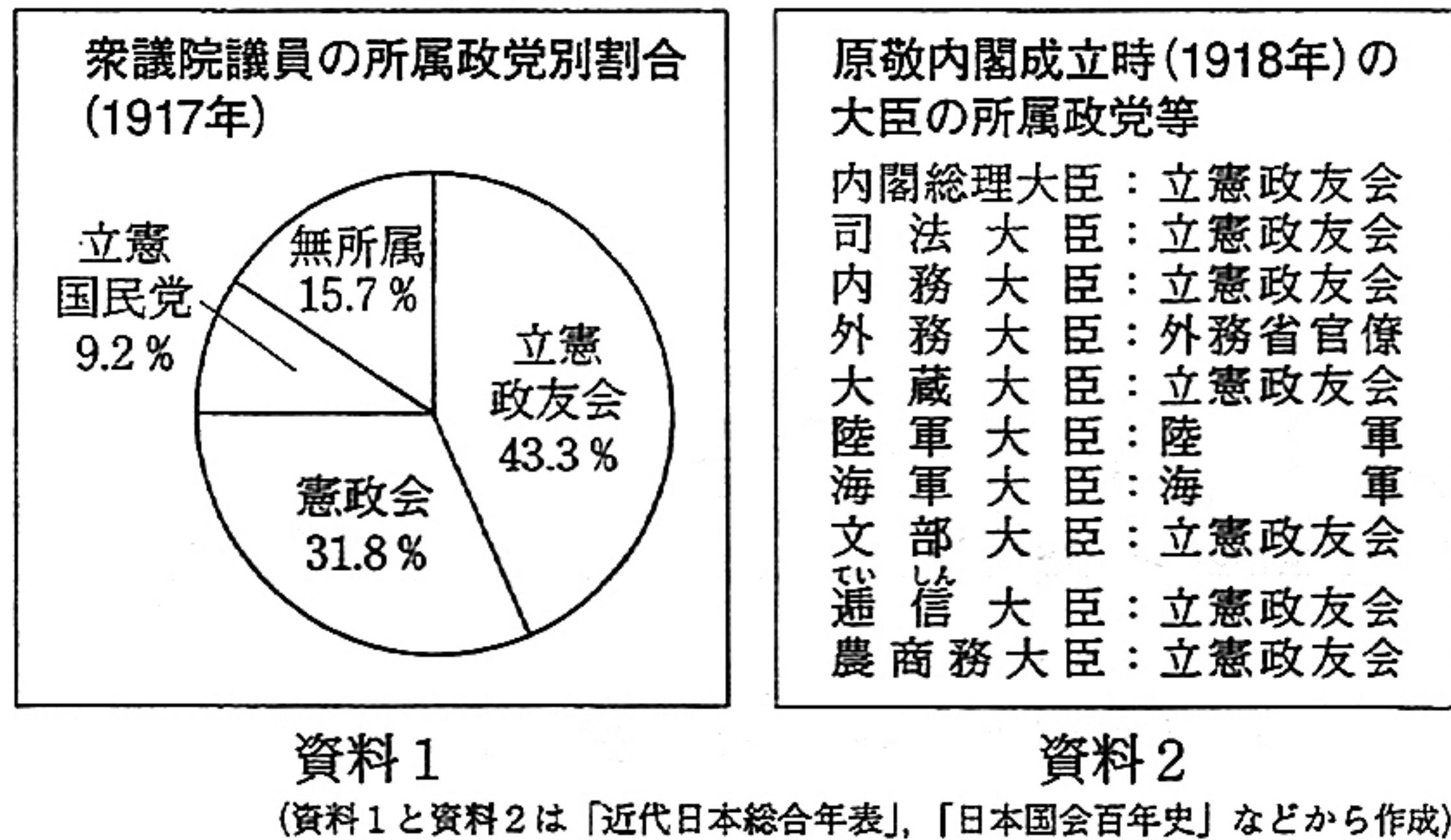
- ア 国会では、法律の制定や予算の審議・議決などが行われている。
- イ 衆議院と参議院の議決が異なったときには、両院協議会が開かれることがある。
- ウ 二院制を採用することで、慎重な審議を行うことができる。
- エ 国会に提出された議案は、本会議で審議された後、委員会で採決される。

② 直子さんは、下線部(b)に関連して、近現代の議会政治の展開と選挙権拡大の歴史について調べた。(1)～(4)に答えなさい。

(1) 近代の政治の展開に関わる次のア～エのできごとを、時代の古いものから順に並ぶように記号で答えなさい。

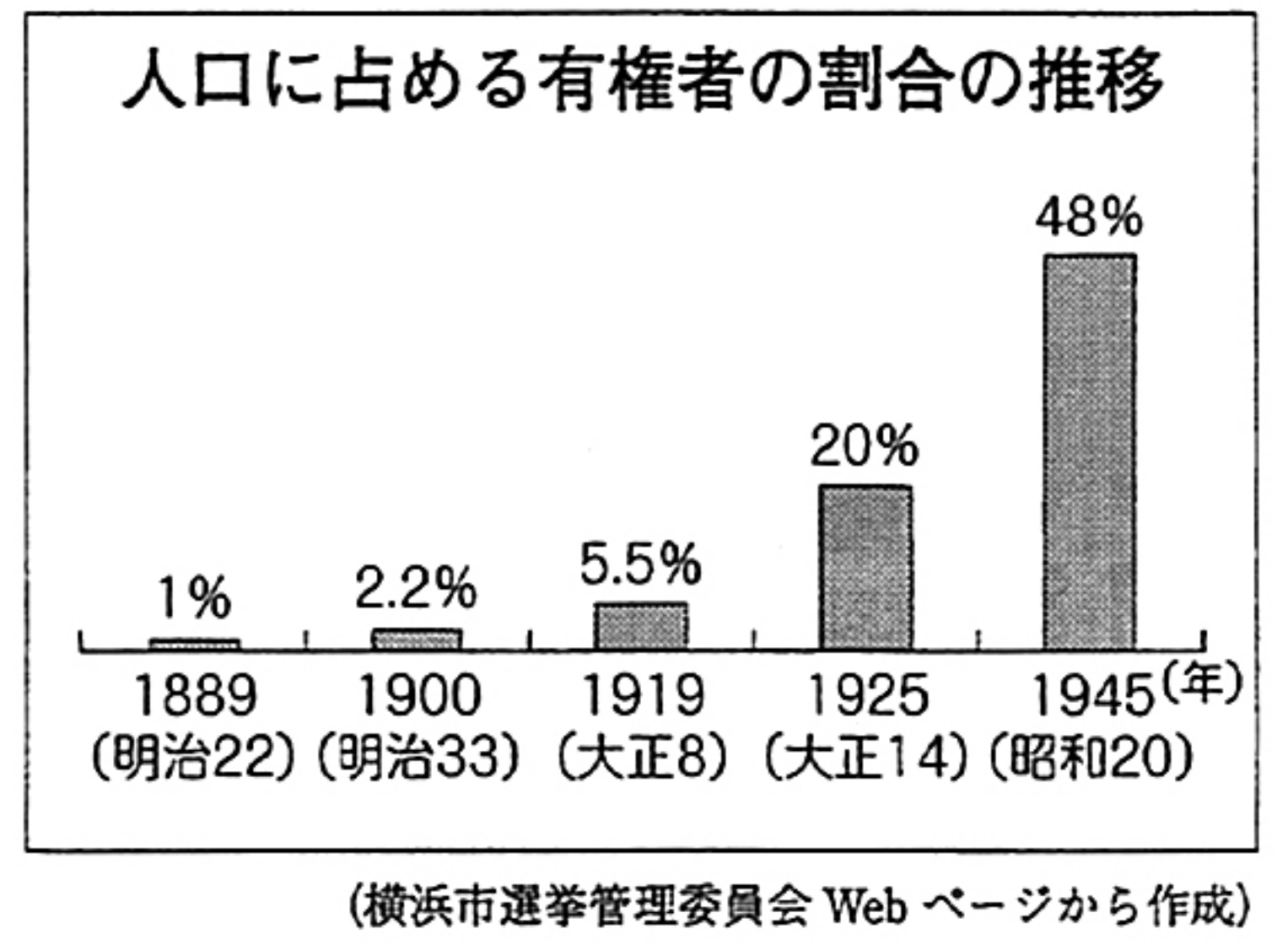
- ア 板垣退助が自由党を結成した。
- イ 最初の帝国議会が開かれた。
- ウ 伊藤博文が初代内閣総理大臣に就任した。
- エ 五箇条の御誓文が出された。

(2) 直子さんは、政党政治の発展に着目して、右の資料1と資料2を作成した。原敬内閣が本格的な政党内閣とされる理由を、資料1と資料2から読み取れることをもとに、解答用紙の書き出しに続けて書きなさい。



(3) 直子さんは、右の表を作成し、有権者の割合が特に増加した年に着目して、次のようにまとめた。  
 □(C)、□(D)に当てはまることばをそれぞれ書きなさい。

1925年：護憲運動を経て、満25歳以上の□(C)に選挙権が与えられた。  
 1945年：第二次世界大戦後、満□(D)に選挙権が与えられた。



(4) 第二次世界大戦後、初の衆議院議員総選挙が実施された年に日本国憲法が公布された。「基本的人権の尊重」、「平和主義」とともに、日本国憲法を構成する基本原理(原則)の一つを何とといいますか。

③ 大地さんは、下線部(c)に関連して、国民の政治参加の権利と方法について調べた。(1)、(2)に答えなさい。

- (1) 基本的人権を保障するための権利の一つで、選挙権や選挙に立候補する被選挙権などを含む権利を何とといいますか。
- (2) 大地さんが、政治参加の方法について次のように説明するとき、□(E)に当てはまることばとして適当でないのは、ア～エのうちではどれですか。一つ答えなさい。

選挙で投票すること以外の政治参加としては、□(E)などがあります。さまざまな政治参加の方法について、理解と認識を深めていくことが大切です。

- ア まちづくりや住民運動への参加
- イ 条例の制定や改廃を求める違憲審査権の行使
- ウ マスメディアを活用した世論づくりへの参加
- エ 国や地方公共団体に要望を伝える請願権の行使

④ 優太さんたちは、調べ学習のまとめとして意見交換をした。次はその会話の一部である。(1)、(2)に答えなさい。

優太：我が国の政治は、選挙で選ばれた代表者が話し合っていることが改めて理解できたね。  
 大地：意見が対立した場合、賛成であっても、反対であっても、数の多い意見だけに注目するのではなく、□(E)意見を尊重することが大切だといわれているね。  
 直子：政治に関心をもたない人が増えると、多様な意見が出にくくなり、一部の人の意見だけに基づいて政治が行われてしまう可能性があるわ。政治と選挙について、選挙権をもつ前からよく考えておく必要があるはずよ。  
 優太：国や社会の一員として、選挙で投票することは、□(F)ために大切なことだよ。  
 大地：私たちが近い将来、責任ある一票を投じるためには、社会の課題について調べ、考え、自分なりに判断する力を身に付けておくことも必要だね。  
 直子：何よりも、私たちの一票が、「未来を拓く」という自覚をもつことが大切ね。



- (1) 大地さんは、最初の発言で審議の過程で大切にすべきことにふれている。□(E)に当てはまることばを漢字二字で書きなさい。
- (2) □(F)に当てはまる内容を、「反映」ということばを用いて10字以上15字以内で書きなさい。




2

中学生の弘美さんは、歴史の授業で武士について学んだことがきっかけで、我が国の武具に関心を持ち、その歴史を調べた。次は、弘美さんが調べたことをまとめたノートの一部である。①～⑥に答えなさい。

我が国の武具の歴史	【古代】 (a) 古墳時代の遺跡から武具が出土している。律令国家では、(b) 人々に兵役が課せられたが、その際には、武具の持参が原則とされた。
	【中世】 (c) 武士の成長とともに、(d) 鎌倉時代には武具の生産がますますさかんになった。戦国時代に、ヨーロッパ人から鉄砲が伝わると、戦い方や武具に変化が現れた。
	【近世】 一時期を除いて、大きな戦乱がなかった。(e) 江戸時代にも、刀やよろい・かぶなどの武具は、武士にとって引き続き大切なものとされた。
	【近代】 明治時代になると、(f) 土族も刀を持ち歩くことを禁止する廃刀令が出された。軍隊の装備が近代化し、伝統的な武具の地位は低下した。

① 下線部(a)に関連して、弘美さんは次の事例を紹介した。 (X) , (Y) に当てはまることばの組み合わせとして最も適当なのは、ア～エのうちではどれですか。一つ答えなさい。

資料1は、武具を身につけた (X) で、各地の古墳から出土しています。資料2の鉄剣は、関東地方の古墳から出土したもので、 (Y) の名と文が記されており、大和政権(ヤマト王権)の発展を推測させます。



- ア (X) : 土偶, (Y) : 大王
- イ (X) : 土偶, (Y) : 執権
- ウ (X) : 埴輪, (Y) : 大王
- エ (X) : 埴輪, (Y) : 執権

② 下線部(b)に関連して、古代に九州北部の警備をした兵士を何といいますか。

③ 下線部(c)に関連して、次のア～エのできごとを、年代の古いものから順に並ぶように記号で答えなさい。

- ア 織田信長が今川義元を破った。 イ 平清盛が太政大臣になった。
- ウ 北条泰時が御成敗式目(貞永式目)を定めた。 エ 平将門が関東で反乱をおこした。

④ 下線部(d)に関連して、鎌倉時代の社会の説明として最も適当なのは、ア～エのうちではどれですか。一つ答えなさい。

- ア 各地で土一揆がおこり、幕府に徳政令を出すことを要求するなどした。
- イ 地頭として任命された武士たちが、荘園の土地や農民への支配を強めた。
- ウ 新田開発により農地が増加し、備中ぐわや千歯こきなどの農具も普及した。
- エ 貿易で発展した堺や博多では、有力な商工業者によって、自治が行われた。

⑤ 下線部(e)に関連して、元禄文化がさかえた時期のできごととして最も適当なのは、ア～エのうちではどれですか。一つ答えなさい。

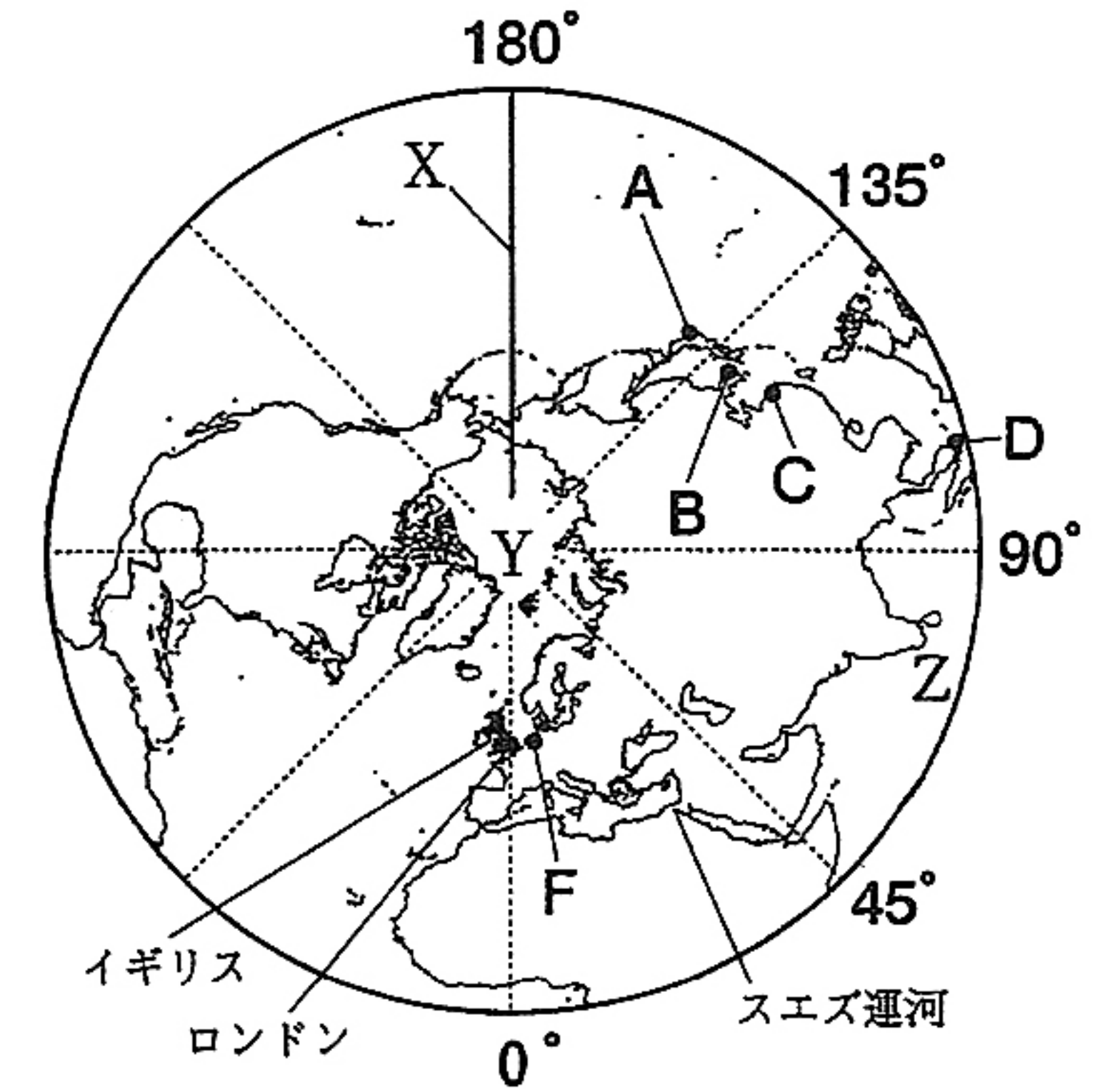
- ア 近松門左衛門が人形浄瑠璃の台本を書いた。 イ 雪舟が水墨画の作品を残した。
- ウ 紀貫之らが『古今和歌集』をまとめた。 エ 親鸞が浄土真宗(一向宗)を広めた。

⑥ 下線部(f)に関連して、弘美さんは、明治政府に不満をもった士族の動きに着目して、次のようにまとめた。(P), (Q) に当てはまることばを、それぞれ漢字四字で書きなさい。

1874年、板垣退助らは、国会開設などの要求を明治政府に出しました。これが、(P) 運動の始まりで、政府を批判する士族が運動の中心にいました。一方、一部の士族は次々と武力反乱をおこしましたが、政府軍に鎮圧されました。これらの反乱のうち、1877年におこった、西郷隆盛を中心とする反乱を(Q) といいます。(Q) 以後は、言論による政府批判が中心となり、(P) 運動がさらに広がりました。

3

次の図1は北極を中心として北半球を描いた略地図であり、図2は緯度0度から南緯60度までの南半球を描いた略地図である。①～④に答えなさい。なお、図1、図2の略地図のあらし方と縮尺は異なるが、どちらも経線は45度間隔である。



(注) 経線は北緯80度までを描いている。

図1

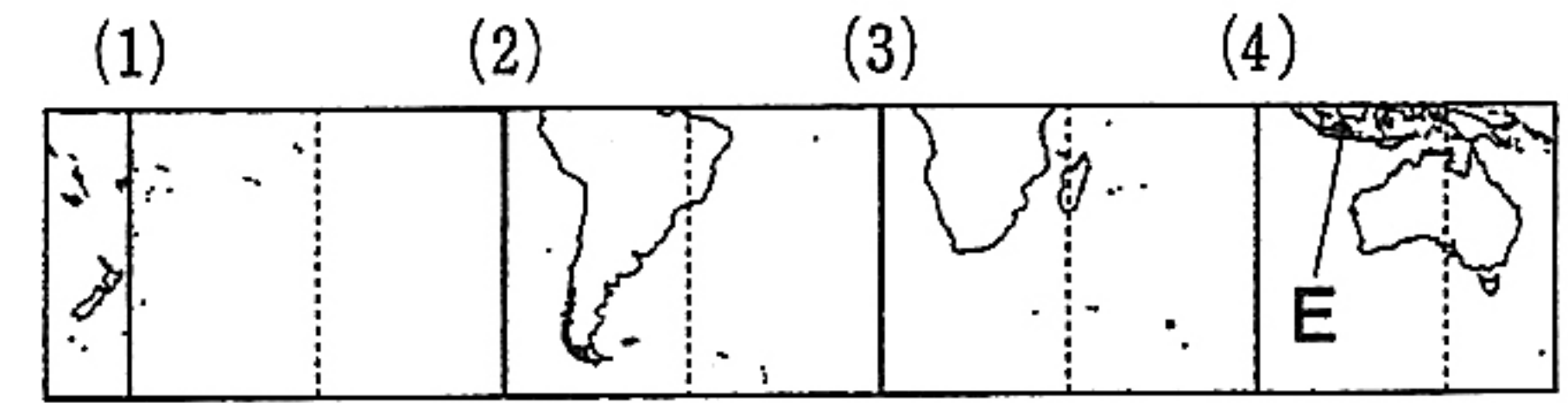


図2

① 図1のイギリスについて、(ア), (イ)に答えなさい。

(ア) イギリスは、現在、ヨーロッパの20か国以上が加盟している地域統合の一員である。政治、経済、社会などの幅広い分野で結び付きを強めているこの地域統合を何といいますか。

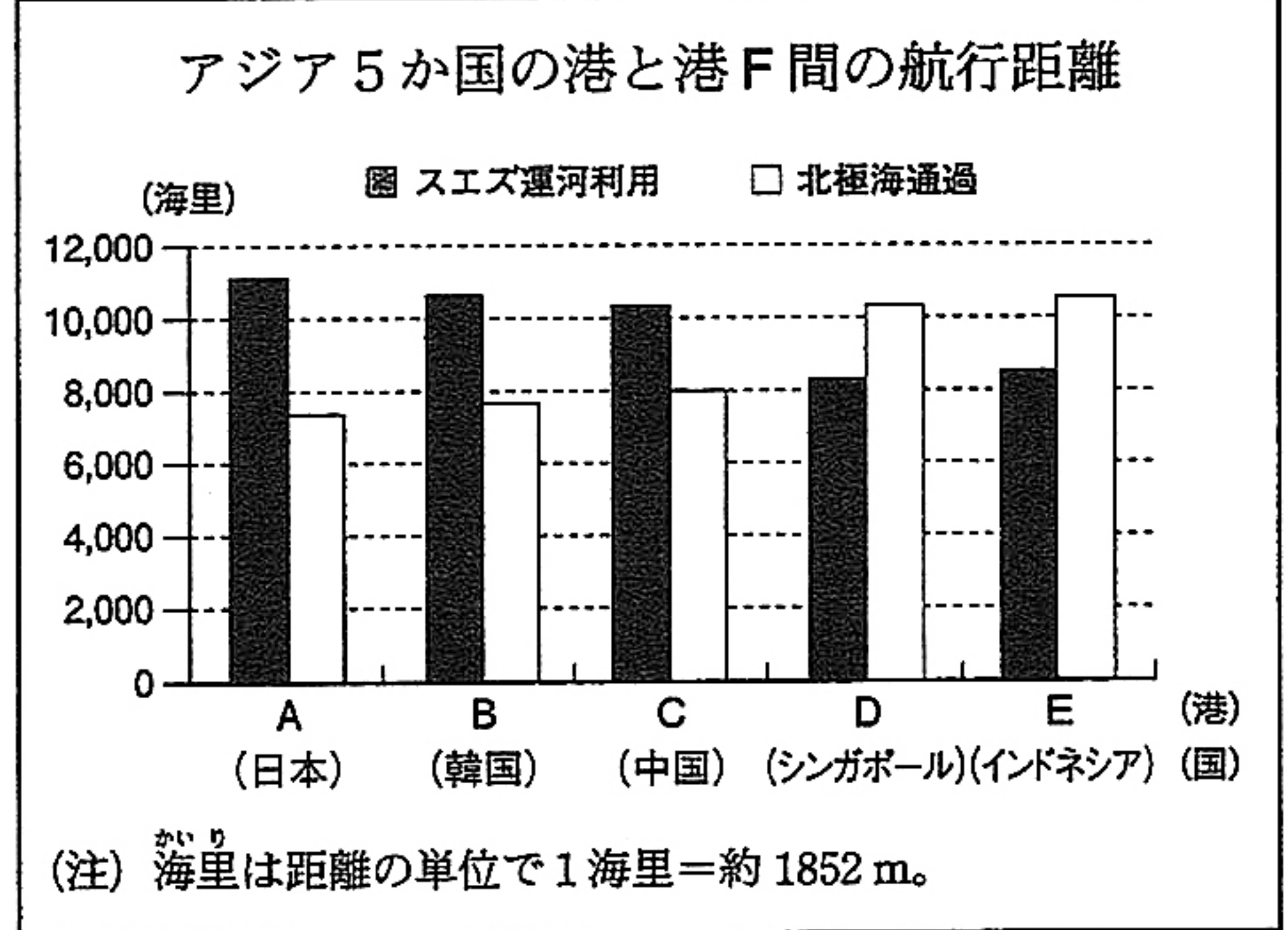
(イ) 東京が12月24日の午後6時のとき、イギリスのロンドンは何月何日の何時ですか。時刻については午前または午後を用いて答えなさい。

② 図1のXは180度の経線である。図2で180度の経線は、(1)～(4)のうちどれですか。一つ答えなさい。

③ 先進国(先進工業国)の多くは、図1に示された北半球にあり、発展途上国の多くは、赤道付近から南半球にかけて存在するが、先進国(先進工業国)と発展途上国の経済格差とそこから生じるさまざまな問題を総称して何といいますか。

④ 次は、北極海(図1のY)に関する文章と、アジア5か国の港(図1のA～D, 図2のE)と図1の港F間の航行距離をまとめた資料である。(a)には、図1のZで示された大洋の名称を、(b)には、資料から当てはまるすべての国を答えなさい。

アジア5か国の港A～Eから、それぞれ船で港Fに向かうには、通常、(a) から図1のスエズ運河を利用する航路を通る。近年、北極海を通過してアジアとヨーロッパを結ぶ航路が注目されつつある。アジア5か国の港A～Eから、北極海を通過して、それぞれ港Fに向かう場合、5か国のうち、(b) は、スエズ運河を利用する場合よりも航行距離を短縮できることが資料からわかる。



資料

(北海道建設部空港港湾局物流港湾課「北極海航路可能性調査事業委託業務報告書」から作成)

(注) スエズ運河はエジプト北東部にある運河。運河とは、陸地を掘って通した水路のこと。



4 陽子さんの家族は、父の実家に転居して祖父母と同居する予定である。実家は築100年以上を経て老朽化が進み、建て替えをすることになっている。①～⑥に答えなさい。

- ① 父の実家について、(ア)、(イ)に答えなさい。  
 (ア) 家族で押し入れの整理をしていたところ、保存されていた古い新聞を見つけた。そのうちの二つの記事に関して書かれた次の文章中の (a) , (b) に当てはまることばを書きなさい。

図1は、1925年に選挙に関する法律案が可決されたときの記事である。一方、同年、社会主義、共産主義の抑圧などを目的とした (a) 法も制定された。図2は、1932年に当時の内閣総理大臣が襲撃された事件の号外記事である。この事件により、図1の記事が掲載された前年から約8年間続いた (b) 政治の時代が終わった。

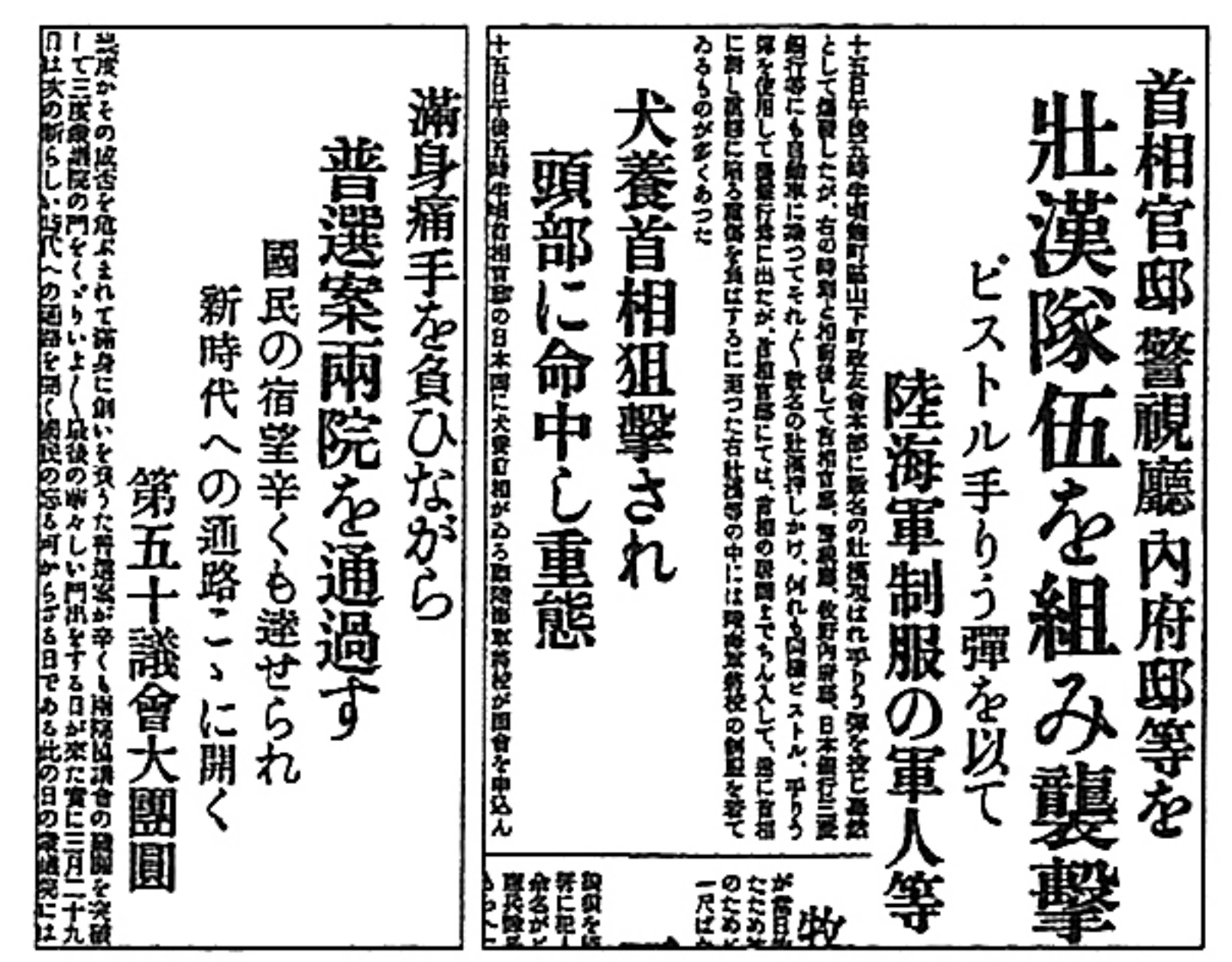


図1 図2

- (イ) 父の実家は、陽子さんの父が誕生した1972年に改築されていた。同年、沖縄が日本に復帰したが、沖縄がアメリカ合衆国の占領(施政権)下にあった期間として最も適当なのは、(1)～(4)のうちではどれですか。右の年表を参考にして、一つ答えなさい。  
 (1) 約12年間 (2) 約21年間  
 (3) 約27年間 (4) 約30年間

年月	できごと
1941.12	太平洋戦争が始まった。
1945. 8	第二次世界大戦が終わった。
1951. 9	サンフランシスコ平和条約が締結された。
1960. 5	日米安全保障条約が改定された。
1972. 5	沖縄が日本に復帰した。

- ② 父の実家がある町では、2004年に市町村合併の是非を問う住民投票を行った。次に示した陽子さんの祖父母の発言について、(ア)、(イ)に答えなさい。

2003年に長野県平谷村で行われた住民投票では、中学生も参加したことが話題になったね。住民投票のほかにも、直接民主制の要素を取り入れた直接請求権が認められていて、住民の意思が直接反映される機会があるんだよ。

地方分権を進めるために、国がもっていた権限だけでなく、                    も地方に移されてきたけど、それを効率よく使うには、合併して自治体の規模をある程度大きくすることも必要だと思うわ。でも、住民投票の結果、合併を見送った自治体もあるわよ。

「住宅設備 バリアフリー」でインターネット検索をしたら、いろいろと工夫された設計があって驚いたよ。  
 新しい家は、おじいちゃん、おばあちゃんがこれから年を重ねても、いつまでも安心して暮らせるような設計にしたいね。



- (ア) 祖父の発言の下線部に関して、住民が直接請求できるものとして適当でないのは、(1)～(4)のうちではどれですか。一つ答えなさい。  
 (1) 首長の選挙 (2) 議員の解職  
 (3) 議会の解散 (4) 監査  
 (イ) 市町村合併に関して述べた祖母の発言の                      に当てはまることばを書きなさい。

- ③ 陽子さんの弟は、小学校の授業で「みんなが安心して暮らせる社会」について調べ、特に住まいについて関心をもった。弟の発言にある「いつまでも安心して暮らせる」家を実現するために、建て替え後の家の廊下には、どのような工夫があればよいか。その工夫をする目的も含めて書きなさい。

- ④ 右に示した、住宅の建て替え資金に関する陽子さんの母の発言について、(ア)、(イ)に答えなさい。



家は高い買い物だから、消費税などの税金もかなりの金額になるの。建て替え資金を借りるために来週は銀行との打ち合わせがあるけれど、今は低金利だから借りやすいわ。

- (ア) 次のX、Yの文は、我が国の消費税について説明したものである。それぞれの文の内容について正誤を表したものとして適当なのは、(1)～(4)のうちどれですか。一つ答えなさい。  
 X 税負担者と納税者が異なっている。  
 Y 同じものを購入すると、一般に所得の低い人ほど負担感が大きい。  
 (1) X、Yのどちらも正しい。 (2) Xのみ正しい。  
 (3) Yのみ正しい。 (4) X、Yのどちらも誤っている。

- (イ) 景気対策に関する次の文章中の                      に当てはまることばは、(1)～(4)のうちではどれですか。一つ答えなさい。

金利が低いのは、一般に不景気の時期と考えられる。不景気の対策として、日本銀行は                      を実施し、景気の調節を図る。

- (1) 国債を売るなどの金融政策 (2) 国債を買うなどの金融政策  
 (3) 国債を売るなどの財政政策 (4) 国債を買うなどの財政政策  
 ⑤ 新しい家の設計の打ち合わせから帰ってきた父と、陽子さんとの会話について、(ア)、(イ)に答えなさい。



こちらが考えていたような建物の配置や屋根の形は、一部変更する必要があるそうだ。いくら自由な家づくりをしたいと言っても、近所の日照や周辺環境に配慮するために、法令の規制があるんだよ。



そのことは社会科の授業で勉強したわ。基本的人権にも限界があって、「                    に反しない限り」と日本国憲法の条文にあるわ。それが法律の制定によって具体化されて、みんなの幸福が実現するのよ。

- (ア) 陽子さんの発言の                      に当てはまることばを書きなさい。  
 (イ) 下線部について、我が国で法律の制定を行う機関が、これ以外にもっている権限として正しいのは、(1)～(4)のうちではどれですか。当てはまるものをすべて答えなさい。  
 (1) 弾劾裁判所を設置する。 (2) 最高裁判所の長官を指名する。  
 (3) 法律の違憲審査を行う。 (4) 憲法改正を発議する。

- ⑥ 陽子さんは、建て替えを通じて消費者としての権利や責任について学び、よりよい消費者となるためにはどのような態度や行動が必要なのかについて考えた。消費者基本法は、ものやサービスを提供する事業者の責務を、右のように定めている。このうち、「二」または「三」のいずれかの内容に触れながら、次の陽子さんの発言の空欄に当てはまる内容を、「判断」ということばを用いて書きなさい。




私たち消費者には、ものやサービスを購入する際、                     するような態度や行動が求められていると思います。

**消費者基本法**  
 第五条 (事業者の責務等)  
 事業者は、… (中略) …、その供給する商品及び役務について、次に掲げる責務を有する。  
 一 (省略)  
 二 消費者に対し必要な情報を明確かつ平易に提供すること。  
 三 消費者との取引に際して、消費者の知識、経験及び財産の状況等に配慮すること。  
 (以下省略)



氏名	
----	--

# 社会 解答用紙



※70点満点  
(配点非公表)

1

--

	①(1) (A)			
	①(1) (B)			
	①(2)			
	②(1)	→	→	→
	②(2)	内閣の大臣の多くが		
	②(3) (C)			
	②(3) (D)			
	②(4)			
	③(1)			権
	③(2)			
	④(1)			
	④(2)			

2

--

	①			
	②			
	③	→	→	→
	④			
	⑤			
	⑥(P)			
	⑥(Q)			

3

①(ア)

①(イ)  月  日の  時

③

④(b)

4

①(ア)

①(イ)

②(ア)(X)

②(ア)(Y)

②(イ)

③(ア)

③(イ)

④(ア)

④(イ)

⑤

⑥

②

④(a)