

2020

冬 期

# 社 会

2020 年度冬期講習 高校受験対策講座 [M03B]

# 1st Day

**問題1** 中学生の康平さんのクラスでは、主題学習を行うことになった。康平さんの班は、「平成にみられた社会の変化と新時代に求められること」をテーマとし、四つの項目をもとに調査を進めることにした。次は、班員が担当する項目と内容を記した付箋紙である。①～⑧に答えなさい。〈2019年岡山社会 第1問〉

康平さんの付箋紙

○少子高齢化と我が国の財政からみる平成

(a) 平成の経済の動向、財政の課題、少子高齢化の進行などを通して、我が国のこれからの在り方について調べる。

景子さんの付箋紙

○国と地方の政治の変化からみる平成

小選挙区 (b) 並立制の導入、政権の交代、国際社会との関わりなど国の政治の大きな動きを調べる。また、(c) 地方自治の仕組みとこれからの地方の在り方について調べる。

志保さんの付箋紙

○(d) 情報化と (e) グローバル化からみる平成

情報通信技術の発達と、人・もの・お金などが国境を越えて自由に行きかう社会の到来とが、くらしに与えた影響とその課題などについて調べる。

大樹さんの付箋紙

○企業活動と働き方の変化からみる平成

(f) 企業活動の変化だけではなく、(g) 雇用や働き方などの変化を、時代の大きな変化と結び付けながら調べる。

① 下線部(a)に関して、(1)～(3)に答えなさい。

(1) 康平さんは、平成元年から実施された消費税について調べた。消費税のように、税金を負担する人と実際に税金を納める人が異なる税金を何といいますか。

(2) 平成初期のバブル経済の崩壊後、我が国が不景気になったことを知った康平さんは、不景気の際の政府の役割について次のようにまとめた。[ (A) ]、[ (B) ]に当てはまることばの組み合わせとして最も適当なのはア～エのうちではどれですか。一つ答えなさい。

不景気の際には、需要量が供給量を下回って、物価が下がり続ける[ (A) ]がおこることがあります。政府は、公共事業を増やすなどの[ (B) ]政策を実施して、景気を安定させるようにします。

ア [(A)]:デフレーション [(B)]:財政      イ [(A)]:インフレーション [(B)]:財政

ウ [(A)]:デフレーション [(B)]:金融      エ [(A)]:インフレーション [(B)]:金融

(3) 次は、康平さんの調査内容に関する班員の会話の一部である。[ (C) ]に当てはまる、高齢化率の基準となる適当な年齢を書きなさい。[ (D) ]は当てはまる適当な内容を、「将来の世代」ということばを用いて書きなさい。なお、発言の順序は、大樹さん、景子さん、志保さん、康平さんの順である。



国の予算は、原則として税収を財源として編成するものですが、景気の動向などもあり、税収だけで予算を編成することが難しくなっています。



大樹さんと景子さんのいう状況などに対応するために、平成に入った頃からしだいに発行額が増えてきた (D) という問題があります。そのため、発行には、慎重な判断が必要です。

また、平成に入った頃から、総人口に占める (C) 以上の高齢者の割合は急増しています。このことなどにより国の社会保障関係費は増加し続けています。



社会保障は、国民一人一人が健康で文化的な生活を送るために大切なものです。少子高齢化が進むなか、社会保障と財政の在り方をみんなで考えていく必要があると思います。



② 現在の衆議院議員選挙に採用されている選挙制度名となるように、[ (b) ]に当てはまる適当なことばを書きなさい。

③ 下線部(c)や平成における地方の動向などについて述べた文として、内容が適当でないのは、**ア～エ**のうちではどれですか。一つ答えなさい。

- ア** 地方自治は、住民の身近な政治参加の場であることから、「民主主義の学校」とも呼ばれる。
- イ** 地方分権一括法の成立により、地方公共団体が独自の活動を行える範囲が拡大するなどした。
- ウ** 現在、地方公共団体の首長は、その地域の 20 歳以上の住民による選挙で選ばれる。
- エ** 地域の重要課題について、住民の意思をはかるために、住民による投票が行われることがある。

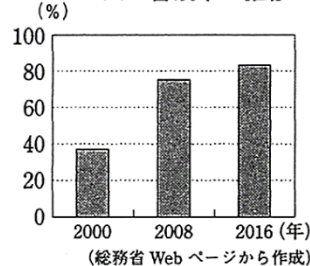
④ 下線部(d)に関して、志保さんは、収集した次の資料 1 と資料 2 をもとに平成における情報化の進展について考えた。  
志保さんの考察の[ ]に当てはまる適当な内容を、「情報」という言葉を用いて書きなさい。

資料 1 新聞発行部数と雑誌出版点数の推移

	新聞発行部数(千部)	雑誌出版点数(点)
1992年	51 938	3 851
2000年	53 709	4 533
2008年	51 491	4 353
2016年	43 276	3 589

(注) 点数は出版された数のこと。  
(日本新聞協会Webページなどから作成)

資料 2 インターネットの人口普及率の推移



志保さんの考察

平成の半ばである 2000 年以降、新聞発行部数と雑誌出版点数が [ ] ことがおもな原因だと考えられます。平成の情報化には、インターネットが大きく影響していると思います。

⑤ 下線部(e)に関する現在の我が国の状況を述べた次の X と Y の文について、内容の正誤をあらわしたのものとして最も適当なのは、**ア～エ**のうちではどれですか。一つ答えなさい。

X 昭和と比べて、日本でくらす外国人の数と海外でくらす日本人の数は、ともに増加した。

Y 産業の空洞化への対策として、フェアトレードの仕組みが注目されるようになった。

- ア** X、Y のどちらも正しい。      **イ** X のみ正しい。
- ウ** Y のみ正しい。      **エ** X、Y のどちらも誤っている。

⑥ 下線部(f)に関して、大樹さんが収集した右の写真では、法律の改正により一定の条件を満たせばコンビニエンスストアでも一部を除いた薬の販売ができるようになった様子を示している。この事例のように、行政が許認可権を見直し、自由な経済活動をうながす動きや考えを何といえますか。



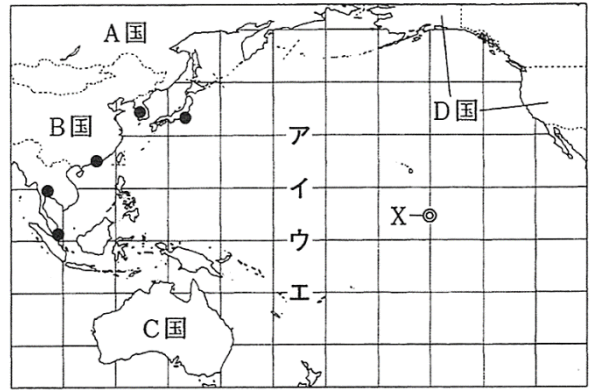
⑦ 下線部(g)に関する現在の我が国の状況について述べた文として、内容が適当なのは、**ア～エ**のうちではどれですか。当てはまるものをすべて答えなさい。

- ア** 非正規雇用の生涯賃金は、一般に正規雇用に比べて低いことが指摘されている。
- イ** 能力主義や成果主義による賃金にかえて、年功序列賃金を導入する企業が増加している。
- ウ** 育児や介護のために、労働者が一定期間を休みをとることができる法律は制定されていない。
- エ** 公的機関や企業などにおいて、女性の管理職や専門職の割合を高めることが求められている。

⑧ 次は、康平さんたちが平成という時代を通して考えた、新時代に求められることについて発表する原稿の一部である。  
[ ]に当てはまる適当な内容を書きなさい。

平成という時代には、少子高齢化、情報化、グローバル化などを背景に社会が大きく変化するとともに、多くの課題にも直面してきたことがわかりました。それぞれの課題に対しては、さまざまな人の利益や考えに配慮するという視点から考えていくことが大切になると感じました。その際、私たちに求められることは、一人一人の[ ]ことだと思います。これは、日本国憲法の基本原理(原則)の一つを踏まえたものですが、人が生まれながらにもつ自由や平等の権利こそが、新しい時代でも課題の解決に向けて最も大切な指針になると考えたからです。

問題2 次の図1を見て、①～⑤に答えなさい。なお、緯線と経線はいずれも15度間隔であり、海上部のみ描かれている。  
 〈2019年岡山社会 第2問〉



(注) 国境は、A国～D国のおもな国境を示している。

図1

① 図1のア～エで示す緯線のうち、地球中での実際の長さが最も長いのはどれですか。一つ答えなさい。

② 図1の●は、アジア州のおもな国際空港の位置を示している。近年、これらの国際空港間の競争が激しくなっているが、航空路が放射状にのび、乗り換えの拠点となる空港を何といえますか。

③ 図1のA国東部のシベリア地方の建物には、高床の工夫がみられる。その理由を述べた次の文の[ ]に当てはまることばを書きなさい。

高床の工夫がみられるのは、特有の土壌である[ ]が生活の熱などでとけ、建物が傾いたり、ゆがんだりすることを防ぐためである。

④ 図1の点Xを通る経線に沿って地球上を一周するとき、通過する経線として最も適当なのは、図2のP～Sのどれですか。一つ答えなさい。なお、図2の経線は15度間隔であり、尺度と表し方は図1と異なる。

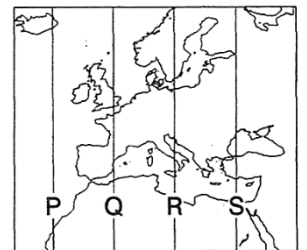
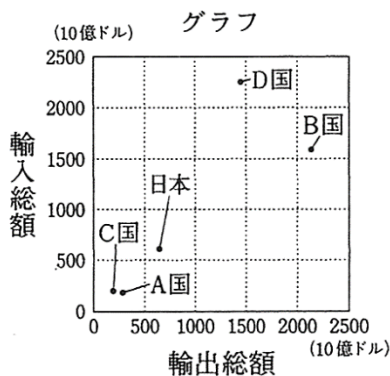


図2

⑤ 次は、図1のA国～D国と日本の5か国について、それぞれの輸出総額と輸入総額を表したグラフと各種統計をまとめた表であり、いずれも2016年の統計である。このグラフと表から読み取れる内容として最も適当なのは、ア～エのうちではどれですか。一つ答えなさい。



(注) 日本の輸出総額は645(10億ドル)、  
輸入総額は608(10億ドル)。

表

	人口 (万人)	農林水産業 就業人口 (万人)	GDP(*) (10億ドル)	日本への 輸出額 (億ドル)	日本からの 輸入額 (億ドル)
A国	14 344	482	1 246	94	67
B国	138 232	14 024	11 218	1 296	1 455
C国	2 431	32	1 304	237	149
D国	32 412	256	18 624	633	1 322
日本	12 700	228	4 936		

(\*)国内総生産の略称で、国内で1年間に生み出された財やサービスの計。

(グラフ、表は「日本国勢図会 2017/18」、「世界国勢図会 2018/19」などから作成)

- ア 日本と比べて、輸入総額が小さい国のうち、日本より人口が多い国は、GDPが日本より大きい。
- イ 日本への輸出額が最も大きい国は、日本との貿易は赤字であるが、輸出総額は日本の輸出総額の5倍超である。
- ウ B国とD国は、それぞれの国の輸出総額と輸入総額の合計が、それぞれの国のGDPの50%以上を占めている。
- エ GDPが最も大きい国は、人口に占める農林水産業就業人口の割合が日本より低く、総額で見ると貿易は赤字である。

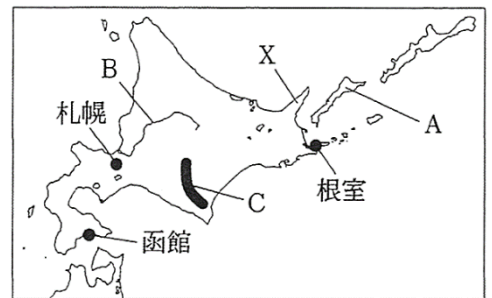
問題3 中学生の太郎さんは、北海道地方を取りあげて地理的特色を調べた。①～③に答えなさい。

〈2019年岡山社会 第4問〉

① 右の図は、太郎さんが作成した略地図である。(1)～(3)に答えなさい。

(1) 図に関する文として、内容が適当でないのは、ア～エのうちではどれですか。一つ答えなさい。

- ア Aは、国後島である。
- イ Bは、石狩川である。
- ウ Cの地域には、飛騨山脈が連なっている。
- エ 函館は、戊辰戦争の最後の戦場となった。




図

(2) 太郎さんは、世界遺産に登録されたXの半島について調べて、右の

資料1を収集し、資料1にみえる取組について次のようにまとめた。[ ]

に当てはまる適当な内容を書きなさい。

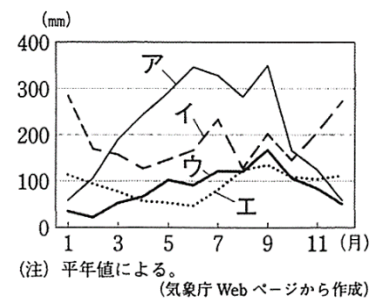
資料1には、この半島の中で、多くの人を訪れる場所に設置された高さ約2mの歩道がみえます。この歩道の設置はエコツーリズムの取組の一つで、[ ]の両立をめざしたものといえるといいます。こうした取組は、他の地域にも参考になると考えます。



資料1

(3) 右の資料2は、図中の根室と札幌、さらに福井と高知の月別降水量を表している。根室に当てはまるのは、ア～エのうちどれですか。一つ答えなさい。

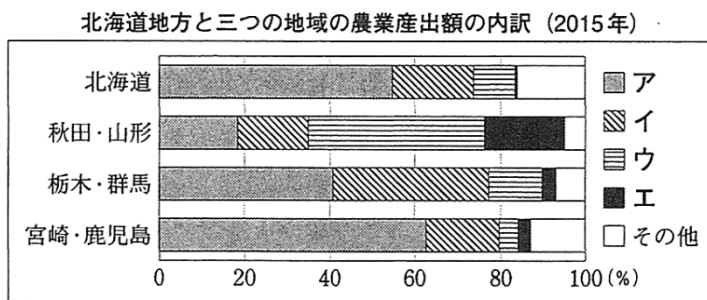
② 北海道地方では、さけを人工的に卵から返して川に放流する漁業が行われているが、このように稚魚などを卵からかえしてある程度まで育てた後、自然の海や川に放す漁業を何といいますか。



(注) 平年値による。  
(気象庁Webページから作成)

資料2

③ 太郎さんは、北海道地方の農業に関する次の資料3と資料4を作成した。(1)、(2)に答えなさい。



資料3

(「データでみる県勢2018」から作成)

北海道地方の稲の作付面積と収穫量の推移

	作付面積 (ha)	収穫量 (t)
1977年度	196 300	990 200
1997年度	154 300	801 600
2017年度	103 900	581 800

(北海道庁Webページなどから作成)

資料4

(1) 資料3は、北海道地方と、他の3地方から隣接した2県を取りあげて、それぞれの農業産出額に占める農作物などの割合をまとめたものである。米、野菜、果実、畜産のいずれかを示しているア～エのうち、野菜と畜産に当てはまるものを、それぞれ一つずつ答えなさい。

(2) 太郎さんは、資料4から、北海道地方では稲の作付面積と収穫量は減少しているが、稲の生産に関する技術は向上していると考えた。太郎さんがこのように考えたのは、なぜだと考えられるか。資料4から読み取れることをもとに「ha」という単位を用いて書きなさい。

問題4 中学生の優子さんは、住んでいる地域の明治時代の鉄道施設が近代化遺産に登録されていることに興味をもち、調べ学習のテーマを「近代化遺産と我が国の歴史」として、次のメモをもとに調査を進めている。①～⑥に答えなさい。〈2019年岡山社会 第5問〉

○近代化遺産とは

江戸時代末期以降に建設され、我が国の近代化に貢献した産業・交通・土木関係の建造物や施設のこと。


○私に関心をもった近代化遺産

- (a) (群馬県)：1872年操業開始。殖産興業政策を進める明治政府が設置した官営模範工場で、  
 (b) 我が国の軽工業の発展を支えた。2014年に世界遺産に登録された。  
 (c) <sup>やはた</sup>八幡製鉄所(福岡県)：1901年操業開始。<sup>ちくほう</sup>筑豊地域(地方)で産出する石炭を利用して生産を拡大し、  
 (d) 我が国の重化学工業の発展を支えた。2015年に世界遺産に登録された。  
 東京駅(東京都)：1914年完成。洋式建築の代表的駅舎。駅では内閣総理大臣 <sup>なかし</sup>(e)原敬がおそわれる事件などが起こった。空襲の被害を受けたが、現在は復元されている。

① [ (a) ]に当てはまる製糸工場名を書きなさい。

② 下線部(b)に関して、優子さんが生糸をつくる製糸業について明治時代の発展の過程を調べていたところ、先生から同じ時期の紡績業についても調べるよう助言を受けた。調査を進めた優子さんは、1883年に開業した大阪の紡績会社の工場内部を撮影した資料1と、1900年の我が国の輸出入をまとめた資料2を収集し、明治時代の紡績業の発展についての説明を作成することにした。あなたが優子さんになったつもりで、この二つの資料をもとにした説明を、「加工」ということばを用いて書きなさい。

紡績会社の生産の様子



資料1

輸出入の総額と品目の割合(1900年)

	輸 出	輸 入
総 額	20 443 万円	28 726 万円
品 目	生 糸 21.8%	綿 花 20.7%
	綿 糸 10.1%	砂 糖 9.3%
	石 炭 9.8%	鉄 鋼 7.5%

(注) 品目は上位3品目。

(「数字でみる日本の100年」から作成)

資料2

③ 下線部(c)は、日清戦争の講和条約で得た賠償金の一部をあてて建設された。我が国が遼東半島や台湾などもゆずられることになったこの条約を何といいますか。

④ 下線部(d)に関して、1910年代に我が国で重化学工業が発展した要因の一つに、この時期に外国から船舶などの注文が増えたことがあげられる。このことのきっかけとなったヨーロッパをおもな戦場とする大規模な戦争を何といいますか。

⑤ 下線部(e)に関して、優子さんは、原が内閣総理大臣であった大正時代に関心をもった。大正時代のできごととして適当なのはア～エのうちではどれですか。一つ答えなさい。

- ア 米騒動がおり、軍隊が出動した。      イ 東海道新幹線が開通した。  
 ウ 関税自主権を完全に回復した。      エ 世界恐慌の影響が我が国にもおよんだ。

⑥ 次は、調査を進めた優子さんが、気づいたことをまとめたものの一部である。[            ]に共通して当てはまることばを漢字二字で書きなさい。

私は、我が国の近代化にとって重要な時期は、日清戦争後の時期だと考えます。なぜなら、この時期には産業革命が進行して、イギリスなどですでに成立していた [            ] 主義が、我が国でも成立したと考えるからです。労働問題などの発生とともに、[            ] 主義を批判する動きがみられるようになったことも重要です。近代化遺産は、このような歴史の展開を知るきっかけにもなると思います。

## 2nd Day

**問題1** A県B市に住む健太さんは、B市の活性化に向けた取組を調べるために、まちに出て、さまざまな人に話を聞いた。①～④に答えなさい。〈2018年岡山社会 第3問〉

① 健太さんは、B市役所を訪問した。(1)、(2)に答えなさい。

(1) 次は、市の広報担当と健太さんの会話である。[ ]に当てはまることばとして最も適当なのは、ア～エのうちではどれですか。一つ答えなさい。



広報担当者

市では、子育て世代への支援策を強化します。また、市に移住を希望する人に就業支援を行ったり、空き家についての情報を提供したりします。

お話の取組が成果をあげると、自主財源である [ ] の収入額が増えて、市の財政の自立性が高まることが期待できますね。



健太さん

ア 地方税    イ 地方交付税交付金    ウ 国庫支出金    エ 地方債

(2) 右の表は、市役所にあったB市に関する資料を健太さんがまとめたものである。表に示す期間に、B市には大きな変化がみられるが、1999年から2010年ごろにかけて全国各地でもみられたこのような変化は、何が行われたことによるものか書きなさい。

表

	人口(百人)	面積(km <sup>2</sup> )	世帯数(世帯)
1990年	472	162	13 889
2000年	473	162	15 527
2010年	856	698	29 741

(総務省統計局 Web ページ等から作成)

② 次は、近所の農家の人から聞いた「農業の六次産業化」について健太さんがまとめたものである。[ ]に当てはまる適当な内容を書きなさい。

「農業の六次産業化」という言葉は初めて聞きました。これは、第一次産業、第二次産業、第三次産業という言葉の中の全ての数字を足す、あるいは掛けると「六」になることから生まれた造語で、農家が第一次産業から第三次産業までのすべてに取り組む経営の多角化のことを指しています。つまり、農家が農作物を育てるだけでなく、農作物を [ ] ことまで行う、ということです。この取組は農家の所得の向上と地域経済の活性化が期待できるため注目を集めています。


③ 健太さんは、江戸時代の面影を残す建物が多いC地区を訪れた。次は、C地区の住民と健太さんの会話である。(1)、(2)に答えなさい。



C地区の住民

私たちは、美しい町並みを保存するために、これまでにさまざまな取組を進めてきました。例えば、地区の建物を改修する際には、建物の [ ] といった配慮をしています。

地域の方の理解と協力のもと、美しい町並みが保存されているのですね。美しい町並みは観光資源にもなるので、まちの活性化につながると思います。



健太さん

(1) [ ] に当てはまる適当な内容を、具体的に書きなさい。

(2) C地区の住民が、町並みを保存するために市の条例制定を求めて必要な数の署名を集めたとき、その請求先として正しいのは、ア～エのうちどれですか。一つ答えなさい。

ア A県にある地方裁判所    イ A県選挙管理委員会    ウ B市長    エ B市議会

④ 健太さんは、市内の他の地区の取組についても調べるうちに、それらの取組には共通して、これからの社会のあり方を考える時に大切な視点があることに気づいた。右は、そのことについての健太さんのメモの一部である。[ ] に当てはまることばを漢字四字で書きなさい。

D地区：地区の人を中心に自然環境を保全する取組を進めている。  
E地区：地域の年中行事に小・中学生、高校生の参加を促している。  
F地区：地域の食材を地域で消費する取組を推進している。

これらの取組は、「[ ] な社会」の実現に向けた取組と考えられる。

問題2 中学生の良太さんは、我が国の歴史には中国の影響が大きいと考えて、その交流の展開を時代区分ごとにノートにまとめている。次はそのうちの一部である。①～⑤に答えなさい。〈2019年岡山社会 第3問〉

**我が国と中国との交流～海でつながる隣国～**

古代：中国の歴史書には、1世紀に奴国の王が漢（後漢）に、3世紀に邪馬台国の女王卑弥呼が魏に、それぞれ使者を派遣していたことが記されている。古墳時代には、倭王が中国の南朝に使者を派遣する一方、(a) 渡来人により中国や朝鮮半島から新技術や文化が伝えられた。遣隋使や遣唐使の派遣は、国家の仕組みの成立だけでなく、(b) 天平文化 など特色ある文化の形成に大きな影響をあたえたが、9世紀に遣唐使は停止された。

中世：(c) 宋との貿易がさかんに行われた。13世紀に2回にわたる元の襲来があったものの、交流が途絶えることはなく、商人らが両国を往来した。14世紀には、東シナ海で倭寇が猛威をふるったが、足利義満はこれを取りしめ、明に朝貢する形式をとって貿易を開始した。明から輸入された銅銭は我が国の経済に大きな影響をあたえた。

近世： (d)

① 下線部(a)に関して、古墳時代に伝えられたと考えられているものとして最も適当なのは、ア～エのうちではどれですか。一つ答えなさい。

- ア 青銅器      イ 鉄砲      ウ 稲作      エ 漢字

② 下線部(b)の特色について、良太さんは、正倉院に納められた聖武天皇の身のまわりの品に注目して、次のようにまとめた。[                    ]に当てはまる適当な内容を書きなさい。

聖武天皇の身のまわりの品などには、唐や朝鮮半島の品だけではなく、西アジアなどから唐に伝わったと考えられる品や西アジアなどの影響を受けたと考えられる品がみられます。このことは、天平文化がはなやかで、[                    ]といわれることをよく示しています。

③ 下線部(c)を推進するために瀬戸内海の航路や現在の神戸市にあった港を整えた人物は、広島県にある右の写真にみえる神社を信仰した。この人物について述べた文として最も適当なのは、ア～エのうちではどれですか。一つ答えなさい。

- ア 二度の内乱をへて政治の実権を握り、太政大臣に就任した。  
 イ 自由に商工業ができるように楽市・楽座の政策を勧めた。  
 ウ 武家政治のよりどころとなる御成敗式目を制定した。  
 エ 天皇を退位後に、上皇として政治を動かす院政を開始した。



④ 良太さんは、古代や中世に困難を乗り越えて海を渡った四人の人物に注目した。良太さんが注目した四人について述べたア～エを、年代の古いものから順に並べたとき、三番目となるのはどれですか。一つ答えなさい。

- ア 道元が中国から禅宗を伝えた。                    イ 最澄が中国から帰国後、天台宗をひらいた。  
 ウ 雪舟が中国で水墨画の技法を高めた。                    エ 鑑真が中国から新しい仏教の教えを伝えた。

⑤ 良太さんは、[      (d)      ]に書き込む内容を調べている。(1)、(2)に答えなさい。

(1) 良太さんさんは、我が国で蘭学が発展したきっかけの一つに、享保の改革期に漢文に訳された洋書の輸入制限をゆるめた政策があることに気づいた。この政策を進めた将軍はだれですか。

(2) 良太さんは、江戸時代に我が国から中国へ輸出された、いりこ（なまこ）やふかひれなどが、中国の人々の貴重な食材になっていることを知った。田沼意次が長崎から積極的に輸出をはかったことでも知られる、これらの海産物を総称して何といいますか。



問題3 次の図1～図3は、それぞれ世界の一部地域を表した略地図である。①～⑤に答えなさい。なお、I～IIIは経線を、AとBは国を、X～Zは都市を示しており、各図の縮尺は異なる。(2018年岡山社会 第2問)

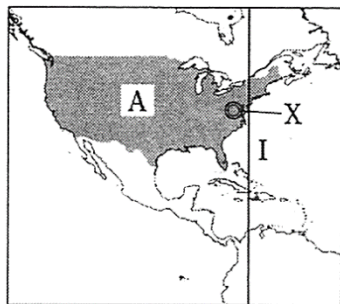


図1

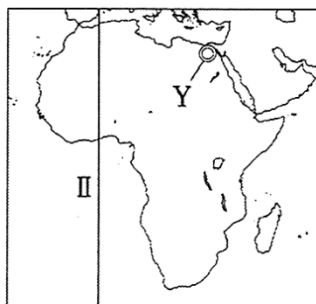


図2

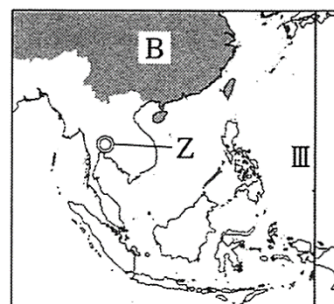


図3

(注) ● は、AとBの国のおもな領域を示す。

① 図1～図3に関する次の文のうち、内容が適当なのは、ア～エのうちではどれですか。当てはまるものをすべて答えなさい。

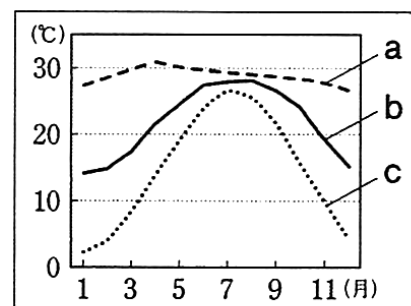
- ア A国は、日本よりも人口密度が高い。
- イ 図2と図3にインド洋がみられる。
- ウ Xは、東京からみて地球の中心を通った反対側の地点である。
- エ Yでは、ムハンマドがはじめた宗教がさかんである。

② I～IIIのそれぞれの間を赤道に沿って東向きに移動するとき、移動距離が最も小さいのは、ア～ウのうちどれですか。一つ答えなさい。

- ア IからIIへの移動
- イ II～IIIへの移動
- ウ IIIからIへの移動

③ 右のグラフのa～cは、図中のX～Zのいずれかの都市の月別平均気温を表したものである。Zに当てはまる気温のグラフと、Zの周辺で栽培がさかんな農作物の組み合わせとして最も適当なのは、ア～カのうちではどれですか。一つ答えなさい。

- ア 気温：a、農作物：小麦
- イ 気温：a、農作物：米
- ウ 気温：b、農作物：小麦
- エ 気温：b、農作物：米
- オ 気温：c、農作物：小麦
- カ 気温：c、農作物：米



(「理科年表 平成27年」から作成)

④ A国は、1990年代の初めに隣国と自由貿易に関する協定を結んだ。自由貿易について述べた次の文章の[ ]に当てはまる適当な内容を、「自国産業」「安い」という二つのことばを用いて書きなさい。

自由貿易を推進するためには、関税を撤廃したり、引き下げたりすることなどが行われます。これにより自国の商品を輸入しやすくなりますが、その一方で、[ ]こともあります。

⑤ 右は、A国とB国の一次エネルギーの生産推移をまとめた資料と、世界の石炭生産に占めるA国とB国を含めた上位国の割合をまとめた資料である。[ (P) ]と[ (Q) ]、[ (R) ]と[ (S) ]には、それぞれA国とB国のいずれかが当てはまる。B国が当てはまる組み合わせとして適当なのは、ア～エのうちではどれですか。一つ答えなさい。

一次エネルギーの生産推移(万t)

国名	年	1990年	2013年
(P)		165 250	188 103
(Q)		88 084	261 370

(注) 一次エネルギーは、化石燃料や水力、風力などの自然界に存在するエネルギーのこと。数値は石油換算。

石炭生産の上位国

国名	割合(%)
(R)	57.8
インド	8.2
インドネシア	6.7
(S)	6.4
その他	20.9

(注) 統計年次は2013年。

(資料はいずれも「世界国勢図会 2016/17」等から作成)

- ア [ (P) ]と[ (R) ]
- イ [ (P) ]と[ (S) ]
- ウ [ (Q) ]と[ (R) ]
- エ [ (Q) ]と[ (S) ]

問題4 中学生の高志さんは、職業調べで近所のスーパーマーケットを訪問し、市場経済のしくみや新しい働き方などについて学んだ。次は、店長へのインタビューの一部である。①～⑤に答えなさい。〈2016年岡山社会 第2問〉

高志：店内には多くの商品がありますが、陳列にどのような工夫をしていますか。  
 店長：(a) 節分、ひな祭り、端午の節句など季節の行事に合わせた商品を、店の出入り口付近に陳列して売り上げを伸ばすようにしています。  
 高志：陳列にそのような工夫があるんですね。では、商品の価格はどのようにして決めるのですか。  
 店長：(b) 商品によって異なりますが、(c) 野菜などは入荷量によって価格が変わりますね。  
 高志：確かに野菜は季節によってずいぶん変わるのでしょね。最後にお店の経営についてうかがいたいのですが、どのようなことを大切にされていますか。  
 店長：最も大切にしているのは、お客様を第一に考えることです。また、(d) 取引先と良い関係を築いたり、店の資金調達や、(e) 従業員の労働環境を守ったりすることも大切なことですね。  
 高志：店長として、さまざまなことに配慮されているんですね。

- ① 下線部(a)のように、毎年同じ季節や同じ日に行われる行事を何といますか。
- ② 下線部(b)に関連して、商品によって市場で独占や寡占が進み、消費者が不当な高価格で商品を購入させられることがある。それを防ぎ、自由な競争をうながすために法律とその運用に当たる機関の組み合わせとして正しいのは、ア～エのうちのどれですか。一つ答えなさい。
- ア 法律：製造物責任法、機関：公正取引委員会      イ 法律：独占禁止法、機関：公正取引委員会  
 ウ 法律：製造物責任法、機関：経済社会理事会      エ 法律：独占禁止法、機関：経済社会理事会
- ③ 次は、高志さんが下線部(c)に関連して作成した資料とその資料の考察である。資料の考察〔(A)〕～〔(D)〕に当てはまる語句を、ア～エからそれぞれ一つ選びなさい。

しゅんぎくの月別の平均価格・入荷量 (2014年)  
 単位：平均価格 (円/kg), 入荷量 (kg)


月	平均価格	入荷量	月	平均価格	入荷量
1月	720	56 171	7月	656	9 148
2月	583	45 777	8月	1 320	5 134
3月	508	34 439	9月	1 013	18 106
4月	591	17 983	10月	490	40 719
5月	557	12 356	11月	488	51 289
6月	648	8 780	12月	919	54 781

(東京都中央卸売市場 Web ページから作成)

しゅんぎくは秋から冬にかけて旬をむかえる野菜である。8月に価格が上昇しているのは〔(A)〕が〔(B)〕したため、10月から価格が下落しているのは〔(A)〕が〔(C)〕したためと考えられる。なお、11月に比べて12月の価格が上昇しているのは、しゅんぎくが旬をむかえたため、〔(A)〕とともに〔(D)〕も〔(C)〕したためと予想できる。

ア 需要量      イ 供給量      ウ 増加      エ 減少

- ④ 下線部(d)に関連して、生産された商品が、卸売業者やスーパーマーケットなどの小売業者を経て、消費者に届くまでの課程のことを何というか。漢字二字で書きなさい。
- ⑤ 右は、高志さんがスーパーマーケットの従業員の休憩室で見つけた下線部(e)に関連するシンボルマークである。店長からは、仕事の時間を短縮して早く家庭に帰ることなどにより、私生活を充実させ、仕事と生活をうまく調和させることをめざす考え方を表したものと説明があった。このような考え方をカタカナで何といますか。



(内閣府 Web ページから作成)

# 3rd Day

**問題 1** 奈良県に暮らす真一さんは、家族旅行で近隣の府県を訪れたことをきっかけに近畿地方に関心をもち、地域的特色を調べた。①～④に答えなさい。〈2020年岡山社会 第1問〉

① 右の図1は、真一さんが作成した近畿地方の略地図である。図1について述べた文として、内容が適当でないのは、**ア～エ**のうちではどれですか。一つ答えなさい。

- ア** A県とB県のどちらも、県名と県庁所在地の都市名が異なる。
- イ** 地点Cにある大山古墳は、我が国最大の古墳である。
- ウ** Dの範囲には、リアス式海岸がみられる。
- エ** 地点Eでは、季節風の影響により、夏に比べて冬の降水量が多い。



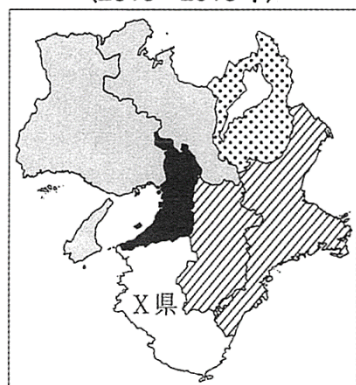
② 旅行先で見かけた外国人の多さに関心をもった真一さんは、右の資料1を見つけた。図2は、資料1をもとに、次の計算の方法と表記の方法にしたがって、外国人宿泊者数の増加率を表そうと作成中の主題図である。X県を塗るのは、**ア～エ**のうちではどれですか。一つ答えなさい。

資料1 外国人宿泊者数(千人)

府 県	2013年	2018年
三 重	131	341
滋 賀	132	413
京 都	2 626	6 268
大 阪	4 315	15 124
兵 庫	507	1 260
奈 良	165	439
和歌山	187	584
日本全体	33 496	94 275

(注) 宿泊者数は延べ人数である。  
(観光庁Webページから作成)

図2 外国人宿泊者数の増加率  
(2013 - 2018年)



計算の方法

例えば、日本全体の増加率は、  
 $\frac{94275}{33496} - 1 = 1.814\dots$   
 よって、181%となる。

表記の方法

- 250%以上
- ▨ 200%以上250%未満
- ▧ 150%以上200%未満
- ▩ 150%未満

- ア** ■      **イ** ▨      **ウ** ▧      **エ** ▩

- ③ 真一さんは、奈良県と近畿地方の他府県とを比べて、資料2と資料3を作成した。二つの資料ア～エは、滋賀県、京都府、奈良県、和歌山県のいずれかである。奈良県に当てはまるのは、ア～エのうちのどれですか。一つ答えなさい。なお、資料2、資料3のア～エは、それぞれ同じ府県を示している。

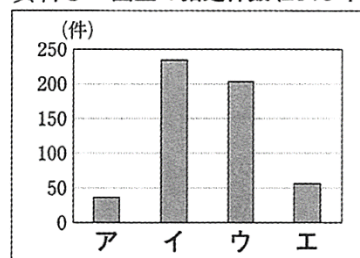
資料2 近畿地方4府県の各種統計

府県	人口 (万人)	人口密度 (人/km <sup>2</sup> )	農業産出額 (億円)	漁業生産量 (万トン)
ア	96.4	203.9	1 011	2.7
イ	261.0	566.0	719	1.2
ウ	136.4	369.6	408	0.002
エ	141.3	351.7	586	0.1

(注) 統計年次は2015年。

(「データでみる県勢2018」などから作成)

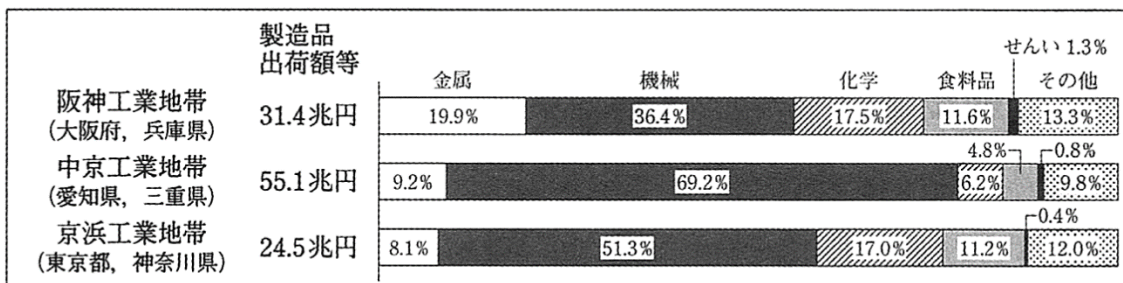
資料3 国宝の指定件数(2019年)



(文化庁Webページから作成)

- ④ 次は、真一さんが作成した、阪神工業地帯と他の二つの工業地帯における製造品出荷額等とその構成のグラフである。(1)、(2)に答えなさい。

グラフ



(注) 統計年次は2016年。

(経済産業省 平成29年「工業統計」から作成)

- (1) グラフから読み取れる内容を述べた次のXとYの文について、内容の正誤を表したのものとして最も適当なのは、ア～エのうちではどれですか。一つ答えなさい。

X 食料品の製造品出荷額等は、グラフの中の三つの協業地帯の中で、阪神工業地帯が最も額が大きい。

Y グラフの中の三つの工業地帯すべてで、製造品出荷額等に占める重化学工業の割合は、製造品出荷額に占める軽工業の割合より大きい。

ア X、Yのどちらも正しい。

イ Xのみ正しい。

ウ Yのみ正しい。

エ X、Yのどちらも誤っている。

- (2) 日本の工業に関して真一さんがまとめた次の文の[ ]に当てはまる適当な内容を、「工場」「製品」という二つのことばを用いて書きなさい。

日本の工業は、グラフで取り上げた工業地帯を中心として、主に加工貿易を通して発展してきました。しかし、1980年代以降の、他国との貿易上の対立や円高の急激な進行、不況の長期化などに対応するため、[ ]ようになった企業が増えました。こうして、産業の空洞化が進むことになりました。

問題2 中学生の夏子さんは、社会科の授業のまとめとして食品廃棄の問題について調べて、レポートを作成することにしました。次は、夏子さんのレポートの構想メモの一部である。①～⑤に答えなさい。

**食品廃棄を減らすために**

○テーマ設定の理由

(a) 発展途上国では、飢餓で苦しむ人がいるのに、日本では大量に食品が廃棄されていると知り、自分に何かできることがないか、考えたいと思ったから。

○日本の食品廃棄

- ・食品廃棄物等が1年間で2,759万トン出ている(2016年)。
- ・日本は、多くの食料を輸入しており、輸送によって(b) 環境に負荷をかけている。運んできた食料の中には、消費しきれず無駄になっているものもあると考えられる。

○日本の食品ロス

- ・食品ロスとは、まだ食べられるのに捨てられてしまう食品のこと。
- ・食品廃棄物等2,759万トンのうち、食品ロスは643万トン(2016年)。毎日、国民一人当たりお茶碗一杯分の食品ロスが発生している。
- ・スーパーマーケットやコンビニエンスストアでは(c) 売れ残りなど、飲食店や一般家庭では調理のくずや食べ残しなどが、食品ロス発生の原因となっている。

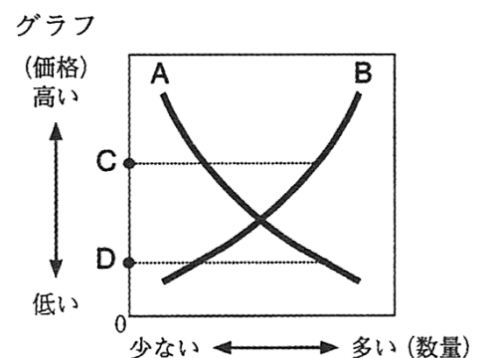
○気づいたこと・考えたこと

- ・日本と他の先進国では、(d) 食料自給や食品廃棄物発生の状況にどのような違いがあるだろう。

① 下線部(a)に関して、発展途上国の中には、工業化が進んだ国や産油国など、豊かになった国がある一方で、経済発展から取り残されて貧困から抜け出せない国がある。このような発展途上国間の経済格差の問題を何といいますか。

② 下線部(b)に関して、夏子さんは、輸送による二酸化炭素の排出に着目した。二酸化炭素排出量増加の原因として、大量消費が問題と考えられている石油や石炭、天然ガスなどの燃料を総称して何といいますか。

③ 下線部(c)について、夏子さんは、需要と供給の量と価格との関係を示すグラフを用いて説明することにした。夏子さんが作成した右のグラフで、需要曲線を表すのはA、Bのどちらですか。また、売れ残りが生じる価格を表すのはC、Dのどちらですか。それぞれ一つずつ答えなさい。



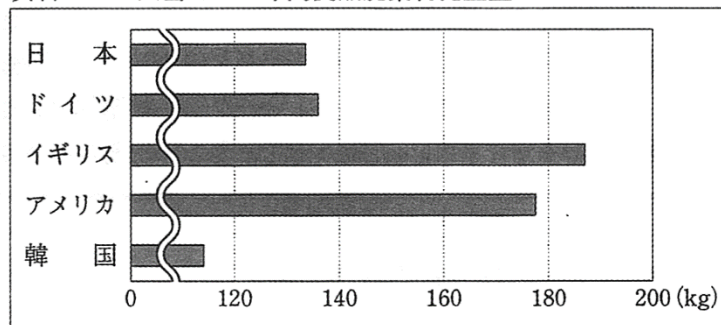
- ④ 下線部(d)に関して、夏子さんは、次の資料1と資料2を作成した。二つの資料から読み取れる内容として最も適切なものは、ア～エのうちではどれですか。一つ答えなさい。

資料1 各国の農産物自給率

国名	穀類 (%)	肉類 (%)
日本	24	51
ドイツ	113	114
イギリス	87	69
アメリカ	126	116
韓国	22	72

(注) 統計年次は2013年。  
 (「世界国勢図会 2018/19」  
 から作成)

資料2 一人当たりの年間食品廃棄物発生量



(注) 波線は、省略部分があることを示している。  
 各国の数値は各種統計・調査等の推計。2011～2015年のいずれかの年に公表の資料による。

(農林水産省 平成28年「海外における食品廃棄物等の発生及び再生利用等の状況」から作成)

- ア 肉類の受給率が最も高いのはアメリカであり、一人当たりの年間食料廃棄物発生量も最も多い。  
 イ 穀類の自給率では、日本はイギリスの半分以下であり、一人当たりの年間食品廃棄物発生量でも、日本はイギリスの半分以下である。  
 ウ ドイツは、イギリスと韓国と比べて、穀類と肉類の自給率がどちらも高いが、一人当たりの年間食品廃棄物発生量は両国よりも少ない。  
 エ 穀類、肉類の自給率がどちらも日本より高い国は、一人当たりの年間食品廃棄物発生量も日本より多い。

- ⑤ 次は、構想メモをもとにレポートを作成した夏子さんがまとめとして書いた文章の一部である。あなたが夏子さんになったつもりで、[ ]に共通して当てはまる適切な内容を書きなさい。

賞味期限は、食品をおいしく食べられる期間を表しており、期限を過ぎればすぐに食べられなくなるということではありません。そこで、小売店の中には、売れ残りになりそうな、[ ]を商品棚の手前に置いて取りやすくしたり、値引きをしたりしているところがあります。一方で、賞味期限を気にする傾向にある消費者への配慮から、そうした商品を、早めに店頭から回収してしまう小売店もあり、食品ロスの増加につながっていると考えられます。

こうしたことから、私は今後、買い物の際には[ ]を積極的に買い、使い切るように心がけたいです。

問題3 社会科の授業で、班ごとにテーマを設定して主題学習を行うことになった。光司さんの班は元号（年号）をテーマに選び、班員それぞれが疑問点や気付いたことを出し合って調査を進めた。①～④に答えなさい。

〈2020年岡山社会 第3問〉



光司さん

(a) 我が国で初めての元号とされる「大化」が定められたころの社会は、どのような様子だったのでしょうか。



敬子さん

(b) 元号が改まる理由には、どのようなものがあるのでしょうか。



真弓さん

承久の乱の「承久」のように、中世と近世には、元号がつけられたできごとが多くみられます。



勇輝さん

(d) 新しい元号である「令和」と昔の元号との共通点、相違点は何でしょうか。

① 学習を進めた光司さんは、下線部(a)の様子を次のように説明した。[ ]に当てはまる国名（王朝名）を書きなさい。

「大化」が定められたとされるころ、中大兄皇子を中心<sup>なかのおおえのおうじ</sup>に政治改革が進められました。これは、大陸で隋にかわって成立した [ ] が周辺<sup>すい</sup>の国を攻撃するなどし、緊張が高まった東アジアの国際情勢に対応するためでした。

② 敬さんは、下線部(b)について調べたことを表にまとめた。次は、その表の一部である。表の下線の天皇について述べた文として、内容が適当でないのは、ア～エのうちではどれですか。一つ答えなさい。

表


元号が改まる主な理由	例	新しい元号
新しい天皇が即位した。	光仁天皇にかわり桓武天皇が即位した。	延暦
縁起のよいできごとがあった。	珍しい亀が聖武天皇に献上された。	天平

- ア 朝廷の支配を広げるため、東北地方へと軍を送った。
- イ 地方政治の立て直しのため、国司に対する監督を強めた。
- ウ 都を平安京に移し、新しく政治の拠点とした。
- エ 天皇の位を幼少の皇子にゆずり、院政を行った。

③ 真弓さんは、下線部(c)について調べた。(1)、(2)に答えなさい。

- (1) 真弓さんが見つけた右の資料は、「文永」の元号のときにおこった「文永の役」で戦う御家人の姿を描いたものである。鎌倉幕府における將軍(幕府)と御家人の主従関係について、【將軍(幕府)は】の書き出しに続けて説明しなさい。

資料



(2) 真弓さんが調べた次のア～エのできごとを、年代の古いものから順に並ぶように記号で答えなさい。

- ア 幕府の政策に反対する武士らが弾圧された安政の大獄がおこった。
- イ 後醍醐天皇が、天皇を中心とした政治を目指した建武の新政を始めた。
- ウ 松平定信が、幕府政治を立て直すため、寛政の改革を始めた。
- エ 將軍のあとつぎ問題に守護大名の対立が結びつき、応仁の乱が始まった。

④ 下線部(d)について調べた勇輝さんは、元号に使われた漢字に注目して、次のようなメモをつくった。メモの[ (X) ]、[ (Y) ]に当てはまることばの組み合わせとして最も適当なのは、ア～エのうちではどれですか。一つ答えなさい。

<調べてわかったこと>

○共通点：「令和」の「和」という漢字が我が国の元号に使われるのは20回目。他には「永」「天」「元」「治」などが繰り返し使われてきた。

○相違点：「令和」の「令」という漢字は、我が国の元号に初めて使われた。

<感想>

同じ漢字が繰り返し使われていることに驚いた。例えば、「天」の場合、[ (X) ]がローマ教皇のもとに少年使節を送ったときの「天正」や、水野忠邦が改革を行ったときの「天保」など、授業で学んだ元号もある。

「令和」の出典となった『万葉集』は [ (Y) ] であるが、我が国の書籍が元号の出典になったのは初めてだそう。


今回調べた元号の他に、授業で学習した時代区分や西暦などについても、次は調べてみたい。

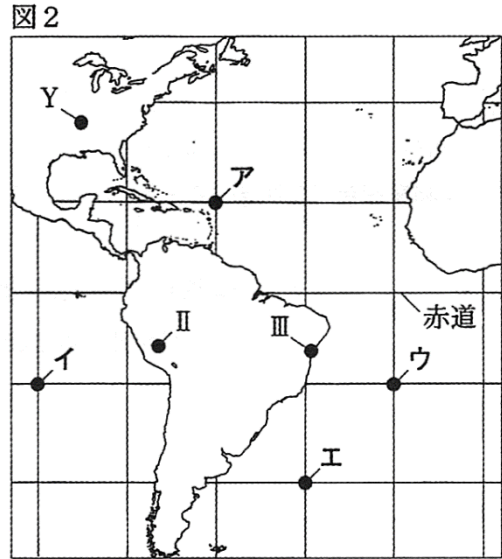
- ア [ (X) ]：キリシタン大名      [ (Y) ]：奈良時代にまとめられた歌集
- イ [ (X) ]：キリシタン大名      [ (Y) ]：平安時代に書かれた随筆
- ウ [ (X) ]：江戸幕府              [ (Y) ]：奈良時代にまとめられた歌集
- エ [ (X) ]：キリシタン大名      [ (Y) ]：平安時代に書かれた随筆



問題4 次の図1、図2は、世界の一部地域を表した略地図である。①～④に答えなさい。なお、略地図中の経線と緯線はいずれも20度間隔であり、海上部のみ描かれている。



(注)  は、インドの主な領域を示す。

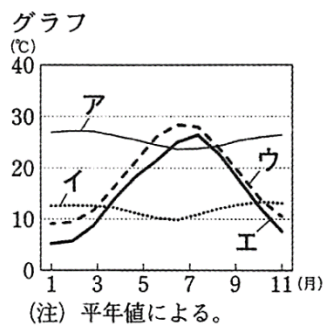


① 図1の地点Xに対する地球の中心を通った反対側の地点として最も適当なのは、図2の地点ア～エのうちではどれですか。一つ答えなさい。

② 東京で開催されるオリンピックの開会式は、日本の標準時で7月24日の午後8時から始まる。図2の都市Y（西経90度）にいる人が、開会式を衛星中継による生放送で見る場合、式の開始を見る現地の日時として最も適当なのは、ア～エのうちではどれですか。一つ答えなさい。ただし、サマータイムは考えないものとする。

- ア 7月23日午前5時      イ 7月23日午後5時  
ウ 7月24日午前5時      エ 7月24日午後5時

③ 次のグラフのア～エは、図1、図2の地点I～IIIと東京の月別平均気温を表したものである。また、表は、それぞれの地点の標高を表している。IIに当てはまる気温のグラフは、ア～エのうちのどれですか。一つ答えなさい。



表

地点	標高(m)
東京	25
I	25
II	3 248
III	52

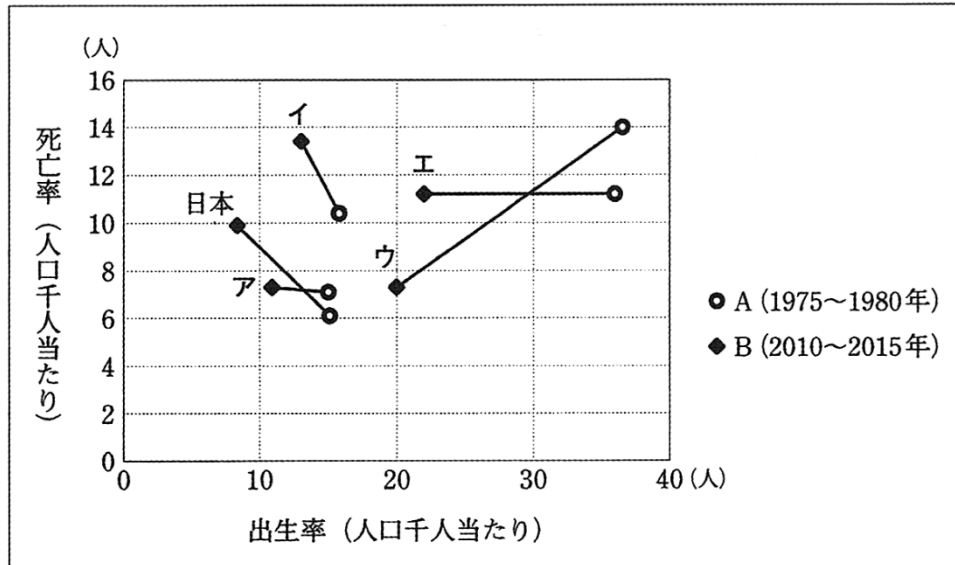
(グラフ及び表は気象庁Webページから作成)

④ 図1のインドについて、(1)、(2)に答えなさい。

(1) インドで、最も多くの人に信仰されている宗教名を書きなさい。

(2) 次の図3は、インド、ロシア、南アフリカ共和国、カナダ、日本について、AとBの期間における出生率と死亡率のそれぞれの平均の数値を示しており、Aの期間は1975～1980年、Bの期間は2010～2015年である。〈情報〉は、図3の内容について述べたものである。図3で、インドに当てはまるのは、ア～エのうちではどれですか。一つ答えなさい。

図3



(注) 日本の1975～1980年の出生率は15.1(人)、死亡率は6.1(人)である。

(総務省統計局「世界の統計2019」から作成)

〈情報〉

- ・ Aの期間と比べてBの期間の死亡率が高いのは、日本、ロシア、カナダである。
- ・ Bの期間において、5か国の中で、出生率が最も高いのは南アフリカ共和国であり、死亡率が最も高いのはロシアである。

問題1 中学生の健次さんは、博物館で開催されていた「貨幣と我が国の近代化」展に行き、学んだことを授業で発表するためにスライドA～スライドCを作成した。①～⑧に答えなさい。(2020年岡山社会 第5問)

スライドA

**貨幣とは**

- 商品などと交換できる価値があり、社会に流通しているもの。通貨ともいう。一般には、(a)紙幣や硬貨などが用いられる。
- 我が国の紙幣は、正式には日本銀行券といい、国立印刷局で製造されている。日本銀行に納入されたのち、金融機関を通して、(b)世の中に出回る。硬貨は、国の造幣局で製造されている。
- 紙幣には、(c)我が国の歴史上の人物、硬貨には産業、文化などを表すデザインがそれぞれ盛り込まれている。


スライドB

**貨幣に関するおもなできごと**

年	できごと
1871 (明治4)	<u>(d)通貨の単位に「円」が正式に採用された。</u>
1882 (明治15)	日本銀行が設立された。
1930 (昭和5)	アメリカで始まった <u>(e)世界恐慌</u> の影響が深刻になった。
1944 (昭和19)	<u>(f)第二次世界大戦中、極めて小額の紙幣が発行された。</u>
1984 (昭和59)	福沢諭吉の肖像が入った一万円札が発行された。

スライドC

**津田梅子 ～我が国最初の女子留学生～**



- 2024年度に発行予定の新五千円札の肖像に選定された。
- 1864年に江戸で生まれた。
- 明治政府の留学生としてアメリカに渡った。帰国し、英語教師をつとめた後、再度留学した。(g)我が国の女性の地位向上のために女子教育の充実が必要と考え、学校を設立するなどした。

- ① 現在、我が国で下線部(a)を発行しているのは日本銀行である。日本銀行のように紙幣を発行したり、政府の預金を管理したりする特別な銀行のことを何といいますか。
- ② 下線部(b)に関して、企業などが預金を調達する際、直接金融とよばれる方法をとることがある。この直接金融について、【企業などが】という書き出しに続けて、「発行」ということばを用いて説明しなさい。
- ③ 下線部(c)に関して、健次さんは千円札の肖像に注目し、これまでに肖像となった人物と2024年度に発行予定の新千円札の肖像に選定された北里柴三郎の業績を調べた。健次さんが調べた四人について述べたア～エを、年代の古いものから順に並べたとき、三番目となるのはどれですか。一つ答えなさい。

- ア 夏目漱石は、ポーツマス条約が結ばれた年に、『吾輩は猫である』を発表した。
- イ 野口英世は、国際連盟が設立された年に、ノーベル賞候補となった。
- ウ 北里柴三郎は、日清戦争がおこった年に、ペスト菌を発見した。
- エ 伊藤博文は、内閣制度が創設された年に、初代内閣総理大臣に就任した。

④ 下線部(d)に関して、健次さんは貨幣制度が整えられた背景について次のようにまとめた。[ ]に当てはまる適切なことばを漢字四字で書きなさい。

明治政府は、欧米諸国に対抗する近代国家の建設を目指し、[ ]を目標として、殖産興業政策や徴兵令の制定などを進めました。この動きの中で、貨幣制度や銀行制度なども整えられました。

⑤ 下線部(e)に対する各国の対策やその後の動きとして適当でないのは、**ア～エ**のうちではどれですか。一つ答えなさい。

- ア アメリカでは、ニューディール政策のもと、大規模な公共事業が行われた。
- イ ドイツでは、ファシスト党が政権を握り、独裁体制が築かれた。
- ウ ソ連では、計画経済のもと、工業化と農業の集団化が進められた。
- エ イギリスでは、外国の商品に対して高い関税をかけるブロック経済が行われた。

⑥ 下線部(f)に関して、博物館には、次のような解説があった。[ ]に当てはまる適切な内容を、「不足」ということばを用いて書きなさい。

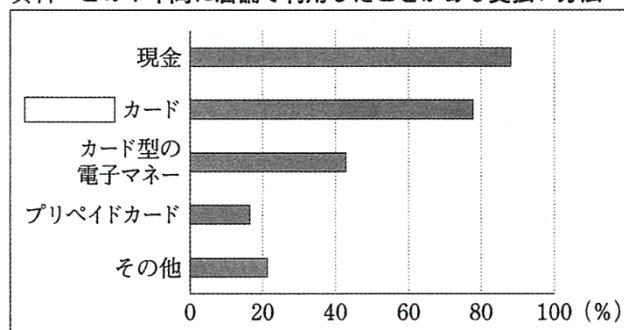
戦争中には、鍋や釜、さらに鉄くずや寺の鐘などまで回収されることがありました。こうしたことが行われたのは、[ ]からです。このような状況の中、効果の製造も困難になり、「五銭」や「十銭」といった少額の紙幣が発行されることになりました。(注)一銭は、一円の百分の一に当たる。

⑦ 下線部(g)について述べた次のXとYの文について、内容の正誤を表したものとして最も適当なのは、**ア～エ**のうちではどれですか。一つ答えなさい。

- X 樋口一葉は、女性差別の解消を目指して青鞥社を結成した。
- Y 第二次世界大戦後最初の衆議院銀総選挙で、我が国で初めて女性国会議員が誕生した。
- ア X、Yのどちらも正しい。      イ Xのみ正しい。
- ウ Yのみ正しい。                      エ X、Yのどちらも誤っている。

⑧ 健次さんは、我が国の貨幣がこれからどうなっていくのかということに関心をもち、資料を収集して、発表のまとめを作成している。次の資料と健次さんのまとめの[ ]に共通して当てはまることばを書きなさい。

資料 この1年間に店舗で利用したことがある支払い方法



(注) 調査年次は2018年。  
この1年間に店舗での支払いをしている人を対象とした質問項目。  
複数回答可。  
(消費者庁 平成30年「キャッシュレス決済に関するアンケート結果」から作成)

店舗で利用したことがある支払方法は、[ ]カードが、現金に次いで多くなっています。この支払い方法では、商品代金は後払いであり、手元に現金がなくても商品を購入することができるので、計画的に利用する必要があります。

[ ]カードや電子マネーなどの利用が増えていくと、将来は、紙幣や硬貨などの現金が使われる機会は減っていき、経済のしくみにも大きな影響を与えるのではないのでしょうか。

問題2 社会科の授業で、現代社会の諸課題を取りあげた学習を行った。次は景子さん、大輔さん、純子さんの発表の一部である。①～③に答えなさい。〈2017年岡山社会 第1問〉

① 次の景子さんの発表について、(1)～(3)に答えなさい。

私は、(a) 女性の社会進出に関心があり、昨年、伊勢志摩サミットに合わせて開かれた「G7倉敷教育大臣会合」に注目しました。



会合で採択された倉敷宣言では、(b) 教育の果たすべき新しい役割などについて述べられていますが、その中で、(c) 女性の活躍分野の拡大についても提言されています。

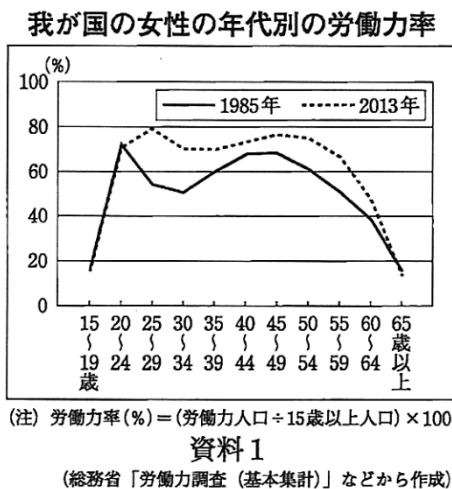
(1) 景子さんは、下線部(a)に関して、女性史を調べ、明治時代に青鞥社を結成して、女性の解放に向けて活動した人物を紹介した。景子さんが紹介したのは、ア～エのうちではどれですか。一つ答えなさい。

- ア 与謝野晶子      イ 津田梅子      ウ 樋口一葉      エ 平塚らいてう

(2) 下線部(b)の推進のために、倉敷宣言では民主主義や人権の尊重などが基盤になると述べられている。民主主義や人権の尊重に関する説明として最も適当なのは、ア～エのうちではどれですか。一つ答えなさい。

- ア アメリカ独立宣言とフランス人権宣言では、社会権の保障が最も重視された。  
 イ 「知る権利」と「プライバシーの権利」は、日本国憲法で直接的に規定された人権である。  
 ウ 国際連合では、世界人権宣言と子ども（児童）の権利条約が採択された。  
 エ 直接民主制の例として、現在の我が国の国会があげられる。

(3) 景子さんは、下線部(c)に関して、我が国の女性の年代別の労働力率をまとめた資料1を作成して次のように発表した。[ (X) ]には当てはまる適当な内容を、[ (Y) ]には漢字四字で当てはまる適当なことばを書きなさい。




1985年のグラフを見ると、20歳代前半と40歳代の労働力率が高く、それと比較して20歳代後半と30歳代の労働力率が低いことがわかります。こうしたことは、働いていた女性のうち、一定の割合の人が、(X) からであると考えられます。

一方、2013年のグラフを見ると、1985年と比較して、ほとんどの年代で労働力率が高いことがわかります。これは、この間に女性の社会進出が着実に進んできたことを示していると考えられます。

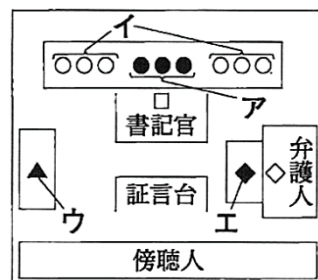
社会が変化する中、だれもが働きやすい環境が整い、男女が家庭生活を含めたさまざまな分野で対等に活動できる男女(Y) 社会の実現に向けて、これから私にできることを考えていきたいと思っています。

② 次の大輔さんの発表について、(1)～(3)に答えなさい。



私は、我が国の裁判の仕組みに関心があります。夏休みには父と一緒に、(d) 裁判員制度による裁判を傍聴しました。(e) 国民と司法の関わりについて考えさせられた一日でした。

(1) 右は、大輔さんが傍聴した下線部(d)の法廷の模式図である。裁判員を表しているのは、図中のア～エのうちどれですか。一つ答えなさい。



(注) 図中の●, ○, □, ▲, ◆, ◇ は、裁判の関係者を表している。

- (2) 大輔さんは裁判員制度について、次のように説明した。[ (P) ]、[ (Q) ]に当てはまる適切なことばまたは数字をそれぞれ書きなさい。

国民の中から選ばれた裁判員が、殺人罪などの重大な犯罪にかかわる[ (P) ]裁判において、第[ (Q) ]審に参加する制度です。裁判員と裁判官が話し合い、被告人が有罪か無罪かということと、有罪の場合にはどのような刑罰にするかを決めます。

- (3) 下線部(e)に関して、大輔さんは、裁判で有罪が確定した人が、もう一度裁判を受けて無罪となったニュースに着目した。新しい証拠が出るなどして、確定した判決に重大な誤りが疑われる場合に、裁判のやり直しを求めること及びその裁判を何といいますか。

- ③ 次の純子さんの発表について、(1)、(2)に答えなさい。

私は情報化社会の進展に関心があり、情報モラルなどをテーマにした中学生の会議に参加しました。次の資料2と資料3を作成して発表したことや、<sup>(f)</sup>情報化社会を生きる上で大切なことについて議論した経験を今後にかかしたいです。



- (1) 次は、情報通信に関する調査結果をもとにして、おもなメディアについて、年代別に平均利用時間をまとめた資料2と、年代別に情報源としての重要度をまとめた資料3である。この二つの資料を用いた発表として内容が適当なのは、ア～エのうちではどれですか。当てはまるものをすべて答えなさい。なお、「ネット」はインターネットを示す。

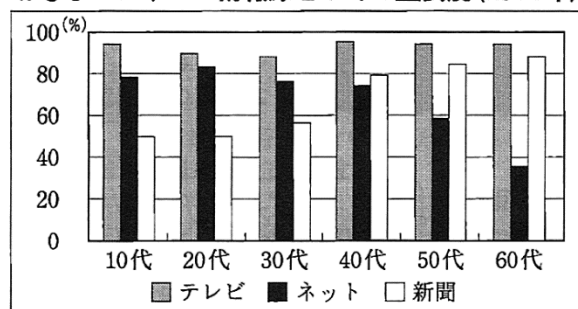
おもなメディアの平均利用時間  
(平日1日 2014年)  
(単位：分)

年代	テレビ	ネット	新聞
10代	91.8	109.3	0.7
20代	118.9	151.3	2.4
30代	151.6	87.6	4.1
40代	169.5	82.5	9.3
50代	180.2	68.0	16.3
60代	256.4	32.2	31.3

(注) テレビに録画視聴時間は含まない。

資料2

おもなメディアの情報源としての重要度(2014年)



(注) 重要度とは、それぞれのメディアがどの程度重要かとの質問のうち、「非常に重要」「ある程度重要」と回答したものを重要度として合計したもの。

資料3

(資料2、資料3は、総務省 Web ページから作成)

- ア すべての年代で、おもなメディアの平均利用時間は、テレビと新聞を合計した時間より、ネットの時間のほうが長い。
- イ 20代は、他のすべての年代よりもネットの平均利用時間が長く、情報源としての重要度もネットについては他の全ての年代よりも高い。
- ウ 新聞の平均利用時間は、年代が高いほど長く、30代以上のそれぞれの年代で新聞の情報源としての重要度はネットよりも高い。
- エ 10代は、他のすべての年代よりもテレビの平均視聴時間が短い、10代の中での情報源としての重要度はテレビが最も高い。
- (2) 下線部(f)について述べた内容として、適当でないのは、ア～エのうちではどれですか。一つ答えなさい。
- ア インターネットから情報を入手するときには、情報源が正確かどうかを確認する。
- イ 情報を発信するときには、自らの個人情報の取扱いに十分注意する。
- ウ テレビ番組の情報は、すべて中立的で正確なので信頼して利用する。
- エ 発信した情報が、自らの意図と異なる受け止め方をされる場合があることを認識する。

問題3 中学生の優太さんは、我が国で選挙権年齢が引き下げられたことを知り、選挙や政治について関心をもった。次は、社会科の調べ学習について、優太さんが同じ班の直子さん、大地さんに行った会話の一部である。①～④に答えなさい。〈2016年岡山社会 第3問〉

優太：法律が改正されて、私たちも高校生の時に選挙で投票することがあるかもしれないね。そこで、(a)選挙と政治について調べることを提案するよ。  
 直子：(a)いい提案だわ。賛成よ。選挙権年齢が引き下げられたのは70年ぶりらしいし、(b)歴史的な視点からも調べてみる必要があると思うわ。  
 大地：そうだね。これを機会に、(c)国民の政治参加について調べたり、選挙で投票する意義についても考えてみたいいな。  
 優太：それでは、「責任ある一票のために選挙と政治について考える」をテーマに調べ学習を進めよう。  
 直子、大地：賛成。

① 優太さんは、下線部(a)に関連して、国会議員の選挙や国会の役割について調べた。(1)、(2)に答えなさい。

(1) 優太さんは右の表を作成し、次のように説明した。[ (A) ]には当てはまることばを漢字二字で、[ (B) ]には当てはまることばを漢字四字で書きなさい。

右の表からは、参議院の選挙が3年ごとに行われているのに対して、衆議院の選挙は不規則に行われていることがわかります。これは、衆議院には参議院にない[ (A) ]制度があることが大きく影響しています。

参議院議員の選挙は、原則として都道府県を単位とした選挙区制と、全国を一つの単位とした[ (B) ]制に分けて行われます。

衆議院	参議院
2000年	2001年
2003年	2004年
2005年	2007年
2009年	2010年
2012年	2013年
2014年	

(2) 国会のしくみやはたらきについてまとめた文として適当なのは、**ア～エ**のうちではどれですか。当てはまるものをすべて答えなさい。

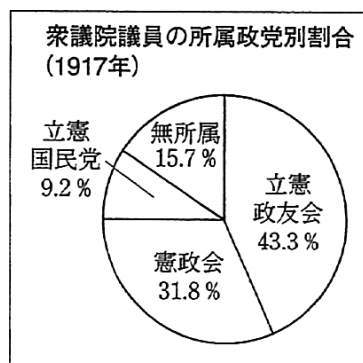
- ア 国会では、法律の制定や予算の審議・議決などが行われている。
- イ 衆議院と参議院の議決が異なったときには、両院協議会が開かれることがある。
- ウ 二院制を採用することで、慎重な審議を行うことができる。
- エ 国会に提出された議案は、本会議で審議された後、委員会で採決される。

② 直子さんは、下線部(b)に関連して、近現代の議会政治の展開と選挙権拡大の歴史について調べた。(1)～(4)に答えなさい。

(1) 近代の政治の展開に関わる次の**ア～エ**のできごとを、時代の古いものから順に並ぶように記号で答えなさい。

- ア 板垣退助が自由党を結成した。
- イ 最初の帝国議会が開かれた。
- ウ 伊藤博文が初代内閣総理大臣に就任した。
- エ 五箇条の御誓文が出された。

(2) 直子さんは、政党政治の発展に着目して、右の資料1と資料2を作成した。原敬内閣が本格的な政党内閣とされる理由を、資料1と資料2から読み取れることをもとに、【内閣の大臣の多くが】という書き出しに続けて書きなさい。



原敬内閣成立時(1918年)の大臣の所属政党等

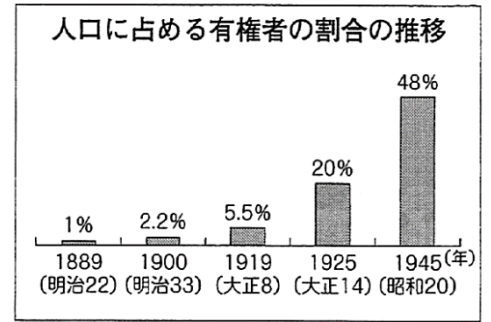
内閣総理大臣：立憲政友会  
 司法大臣：立憲政友会  
 内務大臣：立憲政友会  
 外務大臣：外務省官僚  
 大蔵大臣：立憲政友会  
 陸軍大臣：陸軍  
 海軍大臣：海軍  
 文部大臣：立憲政友会  
 逓信大臣：立憲政友会  
 農商務大臣：立憲政友会

資料1

資料2

(資料1と資料2は「近代日本総合年表」, 「日本国会百年史」などから作成)

- (3) 直子さんは、右の表を作成し、有権者の割合が特に増加した年に着目して、次のようにまとめた。[ (C) ]、[ (D) ]に当てはまることばをそれぞれ書きなさい。
- 1925年：護憲運動を経て、満25歳以上の[ (C) ]に選挙権が与えられた。
- 1945年：第二次正解大戦後、満[ (D) ]に選挙権が与えられた。



(横浜市選挙管理委員会 Web ページから作成)

- (4) 第二次世界大戦後、初の衆議院総選挙が実施された年に日本国憲法が公布された。「基本的人権の尊重」、「平和主義」とともに、日本国憲法を構成する基本原理（原則）の一つを何とといいますか。
- ③ 大地さんは、下線部(c)に関連して、国民の政治参加の権利と方法について調べた。(1)、(2)に答えなさい。
- (1) 基本的人権を保障するための権利の一つで、選挙権や選挙に立候補する被選挙権などを含む権利を何とといいますか。
- (2) 大地さんが、政治参加の方法について次のように説明するとき、[ ]に当てはまることばとして適当でないのは、**ア～エ**のうちではどれですか。一つ答えなさい。
- 選挙で投票すること以外の政治参加としては、[ ]などがあります。さまざまな政治参加の方法について、理解と認識を深めていくことが大切です。
- ア** まちづくりや住民運動への参加
- イ** 条例の制定や改廃を求める違憲審査権の行使
- ウ** マスメディアを活用した世論づくりへの参加
- エ** 国や地方公共団体に要望を伝える請願権の行使
- ④ 優太さんたちは、調べ学習のまとめておして意見交換をした。次はその会話の一部である。(1)、(2)に答えなさい。

優太：我が国の政治は、選挙で選ばれた代表者が話し合っていることが改めて理解できたね。

大地：意見が対立した場合、賛成であっても、反対であっても、数の多い意見だけに注目するのではなく、**(E)**意見を尊重することが大切だといわれているね。

直子：政治に関心をもたない人が増えると、多様な意見が出にくくなり、一部の人の意見だけに基いて政治が行われてしまう可能性があるわ。政治と選挙について、選挙権をもつ前からよく考えておく必要があるはずよ。

優太：国や社会の一員として、選挙で投票することは、**(F)**ために大切なことだよ。

大地：私たちが近い将来、責任ある一票を投じるためには、社会の課題について調べ、考え、自分なりに判断する力を身に付けておくことも必要だね。

直子：何よりも、私たちの一票が、“未来を拓く”という自覚をもつことが大切ね。



- (1) 大地さんは、最初の発言で審議の過程で大切にすべきことにふれている。[ (E) ]に当てはまることばを漢字二文字で書きなさい。
- (2) [ (F) ]に当てはまる内容を、「反映」ということばを用いて10字以上15字以内で書きなさい。



問題4 我が国の近現代の歴史に関わる船や造船業について、①～⑤に答えなさい。

- ① 右の絵は、江戸時代末期にペリーの艦隊が我が国に来航した時の様子を描いたものの一部である。ペリーをわが国に派遣した国のできごととして最も適当なのは、ア～エのうちではどれですか。一つ答えなさい。



- ア 南北戦争がおこって、北部が南部に勝利した。
- イ 社会権を保障したワイマール憲法を制定した。
- ウ 革命が進むなか、ナポレオンが政権を握った。
- エ アヘン戦争に勝利して、南京条約を結んだ。

- ② 明治政府は、殖産興業政策を進めるため各地に製糸場、紡績所、造船所などを建設したり、整備したりした。明治政府が、欧米の技術を取り入れて建設、整備したこのような工場を何とといいますか。

- ③ 第一次世界大戦後の造船業についてまとめた次の文章中の〔 a 〕には当てはまることばを、〔 b 〕には当てはまる内容を「海軍」ということばを用いて書きなさい。

第一次世界大戦が終わると、日本は不景気となり、造船業界の市場も縮小した。1921年から翌年にかけて開催されたワシントン会議では、日露戦争前に結ばれた〔 a 〕同盟を解消するだけでなく、日本など5か国の〔 b 〕ことが取り決められた。この取り決めにより、さらに経営が苦しくなった造船所もあった。

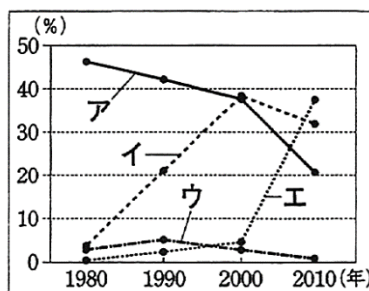
- ④ 右は、現在、横浜港で保存・公開されている氷川丸の現役時代の写真と氷川丸の略年表である。次のⅠとⅡのできごとが当てはまる期間として最も適当なのは、略年表中のア～エのうちではどれですか。それぞれ一つ答えなさい。



1930年	完成。外国航路に就航。	↑ ア ↓ イ ↓ ウ ↓ エ ↓
1941年	日米開戦の直前に、日本海軍の病院船となる。	
1945年	終戦により海外から帰国する人々の輸送などを行う。	
1949年	不定期で外国航路に復帰。	
1960年	運航終了。	
1961年	横浜港につながれ、現在に至る。	

- Ⅰ：高度経済成長がはじまった。
- Ⅱ：国家総動員法が制定された。

- ⑤ 右の資料1は、日本、中国、韓国、ドイツについて、世界に占める造船竣工量の割合の推移を、資料2は、これら4か国の粗鋼生産量の推移をまとめたものである。この二つの資料から、次のような〈情報〉を読み取ることができた。このとき、韓国に該当するのは、ア～エのうちではどれですか。一つ答えなさい。なお、資料1、資料2のア～エは、それぞれ同じ国を示している。



資料1

国	年	1980	1990	2000	2010
ア		111	110	106	110
イ		9	23	43	59
ウ		44	38	46	44
エ		37	66	129	639

(単位：百万t)

資料2

(注) 竣工とは工事が終わること。粗鋼とは鉄鉱石などからつくる鉄などのこと。1980年、1990年のドイツの数値は、旧西ドイツのものである。

(「世界国勢図会 2014/15年版」から作成)

〈情報〉

- ドイツは、世界に占める造船竣工量の割合が、四つの年すべてで、日本を上回ったことはない。
- 日本は、粗鋼生産量が、四つの年すべてで、韓国を上回っている。

# 5th Day

**問題 1** 次の図は、東京からの距離と方位が正しい略地図である。①～⑥に答えなさい。なお、緯線と経線はいずれも 20 度間隔である。(2015 年岡山社会 第 3 問)

① 図中の A～D の年を、東京からの距離が近いものから順に並べたとき、3 番目になるものは、A～D のうちのどれですか。

② 図中の六つの大陸のうち、三つの大洋に面し実際の陸地面積が最も大きい大陸を何といますか。

③ 東京にいる人が、衛星中継で図中の都市 X の様子を伝える映像を、東京の時間で午前 5 時に見ている。衛星中継が生放送であるとき、見ることのできる様子として最も適当なのは、**ア～エ**のうちではどれですか。一つ答えなさい。なお、標準時の基準となる経線は、東京は統計 135 度であり、都市 X は西経 120 度とする。また、サマータイムは考えないものとする。

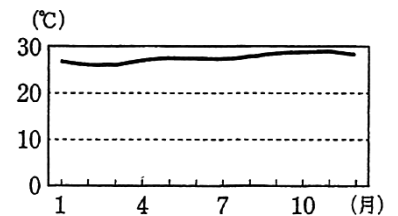
- ア** 朝日を浴びてランニングをする人々      **イ** 真昼の野球の試合で放たれるホームラン
- ウ** 夕日のなかを飛び立つ飛行機            **エ** 真夜中に高速道路を走る自動車

④ 図中の Y は、古代文明の一つがさかえた地域の大まかな範囲を示したものである。紀元前 2500 年から紀元前 2300 年ごろに生まれ、計画的な都市と独自の文字をもつこの文明を何といますか。

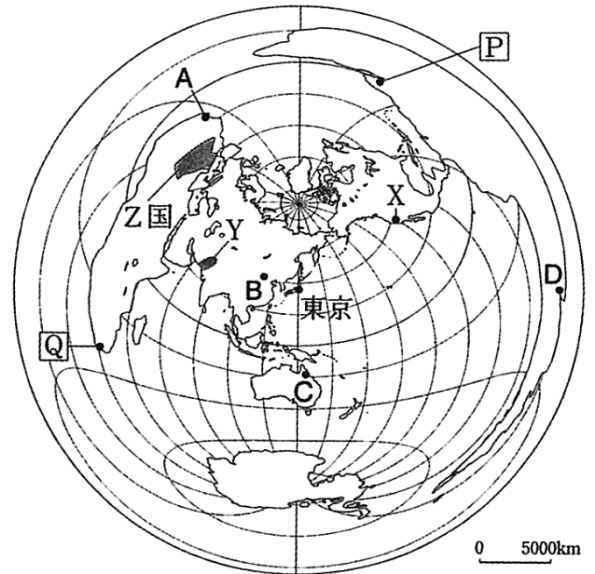
⑤ 右の写真は、図中の Z 国でくらす人々の生活の一部を撮影したものである。水や草を求めて、季節的に移動しながら家畜を飼育する牧畜を何というか。漢字二字で書きなさい。



⑥ 右のグラフは、図中の **巴**、**Q** のいずれかの都市の月別平均気温を表したものである。このグラフは、いずれの都市のものでしょうか。当てはまる記号と、そのように判断した理由をそれぞれ書きなさい。なお、判断した理由は、グラフの特徴と、選んだ都市の緯度を基準とした地球上での大まかな位置をふまえて書きなさい。



(注) 統計年次は 2012 年。  
(気象庁 Web ページから作成)



(注) 緯線は緯度 80 度までを描いている。  
☒

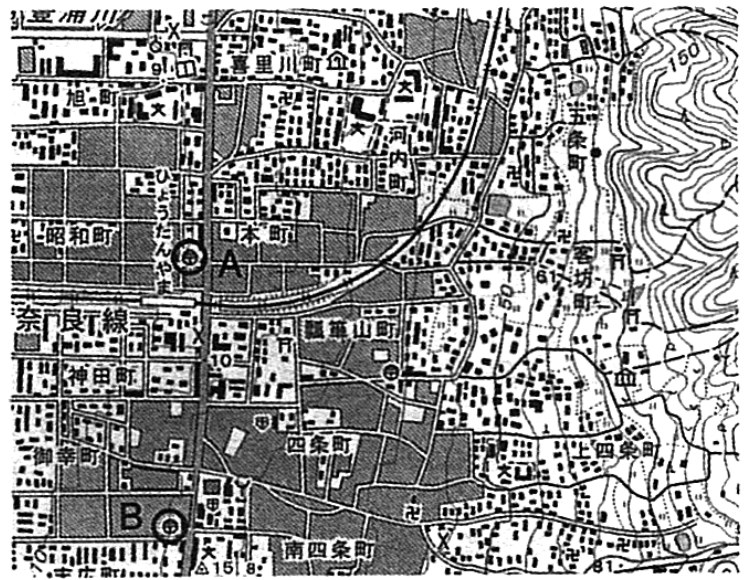
問題2 中学生の真一さんと美佳さんは、近畿地方について調べた。①、②に答えなさい。

(2015年岡山社会 第3問)

① 真一さんは、近畿地方の地図を集めて、その読み取りを行った。(1)～(3)に答えなさい。

(1) 図1は、平成19年発行の2万5千分の1の地形図の一部である。図1から読み取ることのできるものとして最も適当なのは、ア～エのうちではどれですか。一つ答えなさい。

- ア 図書館はひょうたんやま駅から見て南にある。
- イ 博物館(美術館)は、標高100m付近にある。
- ウ 病院は見られない。
- エ AとBの郵便局は地形図上での直線距離が約2.5cmだったので、実際の距離は約2kmである。



(国土地理院平成19年発行2万5千分の1地形図「信貴山」から作成)

図1

(2) 図2は、明治44年発行の地形図の一部である。真一さんは、川が山間部から平野や盆地に出たところに形成される地形をみつけた。真一さんが見つけた、図2のX付近に広がる地形を何といいますか。

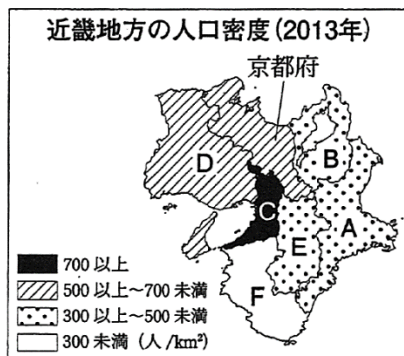
(3) 真一さんが集めた地図の中には、自然災害により被害が発生しそうなところを予測して、避難場所などをあらわした地図がある。地方公共団体などが作成し、配布が進んでいるこのような地図を何というか。カタカナで書きなさい。



(陸地測量部明治44年発行2万分の1地形図「御影」から作成)

図2

② 美佳さんは、近畿地方の人口をテーマに統計資料を調べて、次の資料1～資料3を作成した。(1)、(2)に答えなさい。なお、資料1～資料3のA～Fは、それぞれ同じ府県を示している。



近畿地方の人口と高齢化率(2013年)

	A	B	京都府	C	D	E	F	全国平均
人口(千人)	1833	1416	2617	8849	5558	1383	979	
高齢化率(%)	26.2	22.5	25.8	24.7	25.3	26.7	29.4	25.1

(注) 高齢化率は、総人口に占める65歳以上の高齢者の割合。

資料3

(資料1～資料3は、「日本国勢図会2014/15年版」から作成)

(1) Bの県庁所在地の都市名を書きなさい。

(2) 資料1～資料3から読み取ることのできるものとして適当なのは、ア～オのうちではどれですか。当てはまるものをすべて答えなさい。

- ア 人口密度が最も低い府県は、人口増減率がマイナスであり、近畿地方で高齢化率が最も高い。
- イ 人口が京都府より少ない府県はすべて、京都府より人口密度と高齢化率が低い。
- ウ 人口密度が最も高い府県は、近畿地方で人口が最も多く、高齢化率は最も低い。
- エ 高齢化率が全国平均より低い府県はすべて、2012年から2013年にかけて人口が減少した。
- オ 人口密度が500人/km<sup>2</sup>以上700人/km<sup>2</sup>未満の府県はすべて、人口増減率がマイナスであり、高齢化率も全国平均より高い。

問題3 中学生の弘美さんは、歴史の授業で武士について学んだことがきっかけで、我が国の武具に関心を持ち、その歴史を調べた。次は、弘美さんが調べたことをまとめたノートの一部である。①～⑥に答えなさい。


〈2015年岡山社会 第4問〉

我が国の武具の歴史	【古代】 古墳時代の遺跡から武具が出土している。律令国家では、人々に兵役が課せられたが、 その際には、武具の持参が原則とされた。
	【中世】 武士の成長とともに、鎌倉時代には武具の生産がいっそうさかんになった。戦国時代に、ヨーロッパ人から鉄砲が伝わると、戦い方や武具に変化が現れた。
	【近世】 一時期を除いて、大きな戦乱がなかった江戸時代にも、刀やよろい・かぶとなどの武具は、武士にとって引き続き大切なものとされた。
	【近代】 明治時代になると、土族も刀を持ち歩くことを禁止する廃刀令が出された。軍隊の装備が近代化し、伝統的な武具の地位は低下した。

① 下線部(a)に関連して、弘美さんは次の事例を紹介した。〔X〕、〔Y〕に当てはまることばの組み合わせとして最も適当なのは、ア～エのうちではどれですか。一つ答えなさい。

資料1は、武具を身につけた〔X〕で、各地の古墳から出土しています。資料2の鉄剣は、関東地方の古墳から出土したもので、〔Y〕の名と文が記されており、大和政権（ヤマト王権）の発展を推測させます。

- ア 〔X〕：土偶、〔Y〕：大王
- イ 〔X〕：土偶、〔Y〕：執権
- ウ 〔X〕：埴輪、〔Y〕：大王
- エ 〔X〕：埴輪、〔Y〕：大王



資料1 資料2

② 下線部(b)に関連して、古代に九州北部の警備をした兵士を何といいますか。

③ 下線部(c)に関連して、次のア～エのできごとを、年代の古いものから順に並ぶように記号で答えなさい。

- ア 織田信長が今川義元を破った。
- イ 平清盛が太政大臣になった。
- ウ 北条泰時が御成敗式目（貞永式目）を定めた。
- エ 平将門が関東で反乱をおこした。

④ 下線部(d)に関連して、鎌倉時代の社会の説明として最も適当なのは、ア～エのうちではどれですか。一つ答えなさい。

- ア 各地で土一揆がおこり、幕府に徳政令を出すことを要求するなどした。
- イ 地頭として任命された武士たちが、荘園の土地や農民への支配を強めた。
- ウ 新田開発により農地が増加し、備中ぐわや千歯こきなどの農具も普及した。
- エ 貿易で発展した堺や博多では、有力な商工業者によって、自治が行われた。

⑤ 下線部(e)に関連して、元禄文化がさかえた時期のできごととして最も適当なのは、ア～エのうちではどれですか。一つ答えなさい。

- ア 近松門左衛門が人形浄瑠璃の台本を書いた。
- イ 雪舟が水墨画の作品を残した。
- ウ 紀貫之らが『古今和歌集』をまとめた。
- エ 親鸞が浄土真宗（一向宗）を広めた。

⑥ 下線部(f)に関連して、弘美さんは、明治政府に不満をもった士族の動きに着目して、次のようにまとめた。〔P〕、〔Q〕に当てはまることばを、それぞれ漢字四字で書きなさい。

1874年、板垣退助らは、国会開設などの要求を明治政府に出しました。これが、〔P〕運動の始まりで、政府を批判する士族が運動の中心にいました。一方、一部の士族は次々と武力反乱をおこしましたが、政府軍に鎮圧されました。これらの反乱のうち、1877年におこった、西郷隆盛を中心とする反乱を〔Q〕といいます。〔Q〕以後は、言論による政府批判が中心となり、〔P〕運動がさらに広がりました。

問題4 中学生の真弓さんは、今日の国際社会に関心をもっている。①～⑥に答えなさい。

- ① 真弓さんは、日本の領域について、次のようにまとめた。(1)、(2)に答えなさい。

右の図1は、現在の日本の略地図です。図中のAは、日本の南端となる島で〔X〕といいます。多くの島から形成される日本は、その国土面積と比較すると、広い領域を持つ国家です。

図2は、江戸時代に、幕府の命令で全国を調査した〔あ〕が中心となって作成した日本地図の一部です。図中のBの島を〔Y〕といい、現在、北方領土の一部となっています。



図1

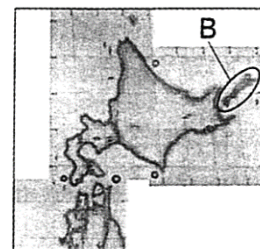


図2

- (1) 〔X〕、〔Y〕に当てはまることばの組み合わせとして最も適当なのは、ア～エのうちではどれですか。一つ答えなさい。

ア 〔X〕：沖ノ鳥島、〔Y〕：国後島      イ 〔X〕：与那国島、〔Y〕：国後島  
ウ 〔X〕：沖ノ鳥島、〔Y〕：樺太      エ 〔X〕：与那国島、〔Y〕：樺太

- (2) 〔あ〕に当てはまる人物名として最も適当なのは、ア～エのうちではどれですか。一つ答えなさい。

ア 狩野永徳      イ 杉田玄白      ウ 黒田清輝      エ 伊能忠敬

- ② 真弓さんは、国際連合のはたらきについて社会科の先生と話し合った。次は、その会話の一部である。(1)、(2)に答えなさい。



先生

国際連合は、1945年に設立され、世界の平和と安全を維持するために活動してきました。しかし、強い権限をもつ安全保障理事会にはさまざまな課題があります。

安全保障理事会の [ ] は、アメリカなど5か国です。この5か国は、拒否権により安全保障理事会の決定に大きな影響力をもっています。これを安全保障理事会の課題とする意見もあると学習しました。



真弓さん

- (1) 先生の発言の下線部に関連して、国際連合の主な機関の一つで、国際法に従い、国家間の紛争を解決するための裁判をおこなう期間を何とといいますか。

- (2) 真弓さんの発言の〔 〕に当てはまることばを、漢字五字で書きなさい。

- ③ 真弓さんは、国際経済の発展について、次のようにまとめた。(1)、(2)に答えなさい。

今日の世界では、交通・通信手段の発達などにより、人、もの(商品)、お金、情報などが国境をこえて大量に移動しています。こうした動きを〔P〕といいます。

経済の面では、日本の企業が新しい市場などを求めて外国に進出したり、外国の企業が日本に進出したりすることが日常的になりました。また、国家間の貿易にも新しい動きがみられます。例えば、2国間以上で自由貿易協定〔Q〕を結んで、関税や規制を減らし、経済の相互関係を強化することがあげられます。

- (1) 〔P〕、〔Q〕に当てはまる言葉の組み合わせとして最も適当なのは、ア～エのうちではどれですか。一つ答えなさい。なお、〔Q〕には自由貿易協定の略称が当てはまる。

ア 〔P〕：バリアフリー化、〔Q〕：FTA      イ 〔P〕：バリアフリー化、〔Q〕：PKO  
ウ 〔P〕：グローバル化、〔Q〕：FTA      エ 〔P〕：グローバル化、〔Q〕：FTA

- (2) 真弓さんのまとめの下線部に関連して、現在、我が国において最も一般的な企業の形態で、出資者から資金を集め、出資者の意見を反映して経営を行い、出資者に投資額に応じて利益を分配する会社を何とといいますか。

- ④ 真弓さんは、国際的な結び付きが強くなっている現在、世界の人々が平和に暮らし、共存するためには、何が大切になるかを考えた。あなたが真弓さんになったつもりで、次の真弓さんの発言の[ ]に当てはまる内容を、「文化」ということばを用いて 10 字以上 14 字以内で書きなさい。

世界の人々が平和に暮らし、共存するためには、国際的な交流をすすめるとともに、自国と他国の [ ]ことが大切になると考えます。



- ⑤ 真弓さんは、南北問題について調べて、次の資料を作成した。この資料から読み取ることのできる最も適切なものは、ア～エのうちではどれですか。一つ答えなさい。

項目 国	一人あたり GNI(*) (ドル)	人口 (万人)	人口増加率 (%)	失業率 (%)	輸出(上位 2 品目)	輸入(上位 2 品目)	
発展途上国	フィリピン	3 087	9 671	1.8	7.0	機械類, 精密機械	機械類, 原油
	パキスタン	1 263	17 916	1.8	5.1	繊維品, 衣類	石油製品, 機械類
	エチオピア	453	9 173	2.8	5.4	コーヒー豆, 野菜・果実	機械類, 石油製品
	コロンビア	7 443	4 770	1.5	10.4	原油, 石炭	機械類, 自動車
先進国	イギリス	39 248	6 278	0.5	7.9	機械類, 自動車	機械類, 自動車
	カナダ	51 346	3 484	1.1	7.2	原油, 自動車	機械類, 自動車

(注) 統計年次は、人口増加率は 2000～12 年の平均、その他の項目は 2012 年。輸出と輸入の順位は金額による。  
(\*) GNI は、国民総所得の略称で、国の経済活動の指標。

(「世界国勢図会 2013 /14 年版」及び「同 2014 /15 年版」から作成)

- ア 人口が最も多い国は、人口増加率が最も高く、失業率は最も低い。  
イ 一人あたり GNI は、発展途上国間では最大で 20 倍以上の差がある。  
ウ 人口増加率が最も高い国は、輸入の上位 2 品目が農作物である。  
エ 輸出の上位 2 品目に自動車がある国はすべて、輸入の上位 2 品目に石油製品がある国より一人あたり GNI が高い。

- ⑥ 真弓さんは、2013 年 10 月に内閣府(国の行政機関の一つ)が実施した世論調査の結果で、「日本は国際社会でどのような役割を果たすべきか」という質問に対して、「環境・地球温暖化などの問題解決への貢献」を挙げた人の割合が最も高かったことに着目した。(1)、(2)に答えなさい。

(1) 地球温暖化のおもな原因とされ、地球の表面から出る熱の放射をさまたげる性質をもつ二酸化炭素などの機体を総称して何といいますか。

(2) 真弓さんは、地球の環境問題に対して、自分に何ができるのかを考えて、次の図 3 のように [1]～[3] の取り組みを行うことにした。あなたが真弓さんになったつもりで、次の真弓さんの発言の [ ] に当てはまる内容を、「循環」ということばを用いて書きなさい。

**環境問題への私の取り組み**  
[1] ごみの量を減らします。  
[2] 壊れても修理して使います。  
[3] リサイクルに協力します。

図 3

私は、[1]～[3] に取り組むことで、  
限りある [ ] 社会  
の形成に貢献したいです。

